

| | | |
|------|---|---|
| 受検番号 | 第 | 番 |
|------|---|---|

平成31年度学力検査問題

社 会 (11時45分～12時35分)
(50分間)

注 意

1 解答用紙について

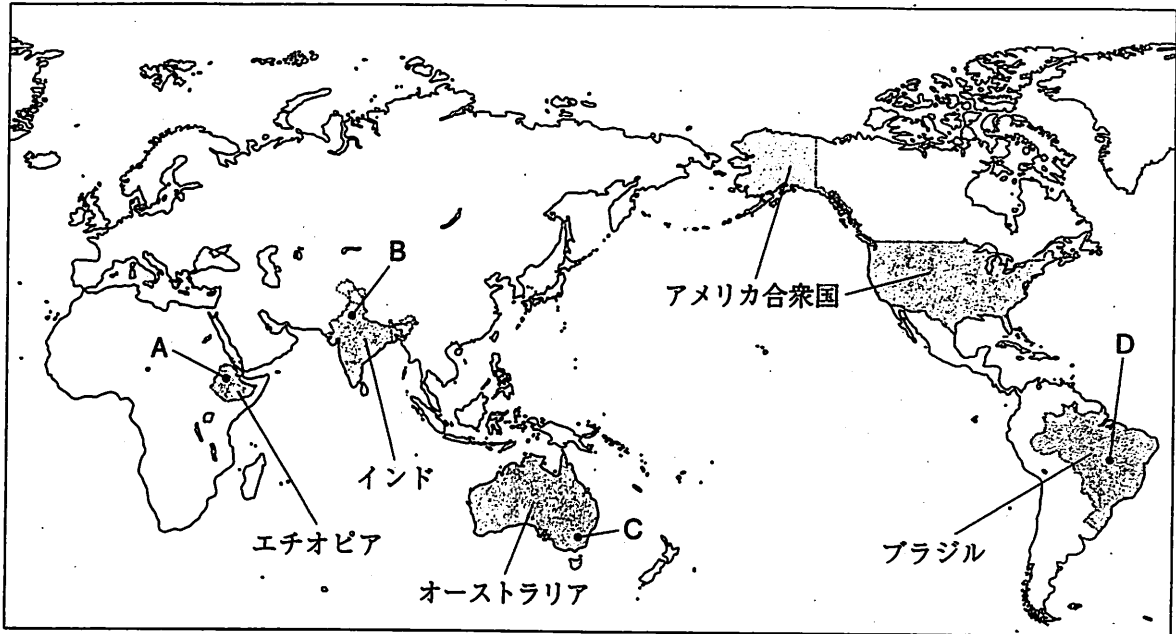
- (1) 解答用紙は1枚で、問題用紙にはさんであります。
- (2) 係の先生の指示に従って、所定の欄2か所に受検番号を書きなさい。
- (3) 答えはすべて解答用紙のきめられたところに、はっきりと書きなさい。
- (4) 解答用紙は切りはなしてはいけません。
- (5) 解答用紙の※印は集計のためのもので、解答には関係ありません。

2 問題用紙について

- (1) 表紙の所定の欄に受検番号を書きなさい。
 - (2) 問題は全部で6問あり、表紙を除いて17ページです。
- 印刷のはっきりしないところは、手をあげて係の先生に聞きなさい。

1 Sさんは、エチオピア、インド、オーストラリア、アメリカ合衆国及びブラジルの5か国について調べました。次の地図をみて、問1～問5に答えなさい。(15点)

地図



問1 地図中の、エチオピアがある大陸の名称を書きなさい。(2点)

問2 次の の中に示した緯度と経度であらわされる地点として最も適切なものを、地図中のA～Dの中から一つ選び、その記号を書きなさい。(2点)

問3 Sさんは、地図中に示したインドで最も多くの人々に信仰されている宗教について調べ、次のようにまとめました。まとめ1の中の にあてはまる語を書きなさい。(3点)

まとめ1

| | |
|---|---|
| <p>インドにおいて、最も多くの人々に信仰されている <input type="text" value="X"/> 教は、特定の民族や地域と強く結びついて信仰されている宗教の一つです。 <input type="text" value="X"/> 教では、水で身体を清める沐浴<small>もくよく</small>の儀式が重視されています。右の資料は、ガンジス川での沐浴の様子です。</p> | <p>資料</p> <div style="border: 1px solid black; padding: 10px; text-align: center;"> <p>掲載許諾申請中</p> </div> |
|---|---|

問 4 Sさんは、地図中のオーストラリアの貿易について調べ、次の表1と表2をつくりました。

表1を読みとり、オーストラリアの輸出がどのように変化したかを、輸出総額と輸出品の特色に着目して書きなさい。また、下のまとめ2は、Sさんが表2を読みとり、まとめたものです。

まとめ2の中の にあてはまる州の名称を書きなさい。(5点)

表1 1965年と2015年におけるオーストラリアの輸出総額に占める輸出品の割合(上位5品目)

| 1965年 | | 2015年 | |
|-------|-------|-------|--------|
| 羊毛 | 29.3% | 鉄鉱石 | 19.6% |
| 小麦 | 12.7% | 石炭 | 15.2% |
| 肉類 | 10.1% | 天然ガス | 6.6% |
| 果実 | 3.6% | 金 | 5.8% |
| 砂糖 | 3.4% | 肉類 | 5.3% |
| その他 | 40.9% | その他 | 47.5% |
| 輸出総額 | 2971 | 輸出総額 | 187792 |

表2 1965年と2015年におけるオーストラリアの輸出入総額に占める貿易相手国の割合(上位7か国)

| |
|---------|
| 掲載許諾申請中 |
|---------|

(注) 輸出総額の単位は、百万ドルである。
(世界国勢図会 2017/18年版などから作成)

(オーストラリア外務貿易省ホームページから作成)

まとめ2

表2から、オーストラリアの貿易相手国の変化を読みとると、1965年の貿易相手国には、イギリスなどヨーロッパ州の国が複数みられるが、2015年では中国など 州の国がおもな貿易相手国となっている。

問 5 次の表3は、地図中に示した5か国の、2014年における国土面積、人口、1人あたりのGNI、農地面積、牛の家畜頭数、牛乳生産量を示したものです。表3から読みとれる内容を述べた文として正しいものを、下のア～オの中からすべて選び、その記号を書きなさい。(3点)

表3

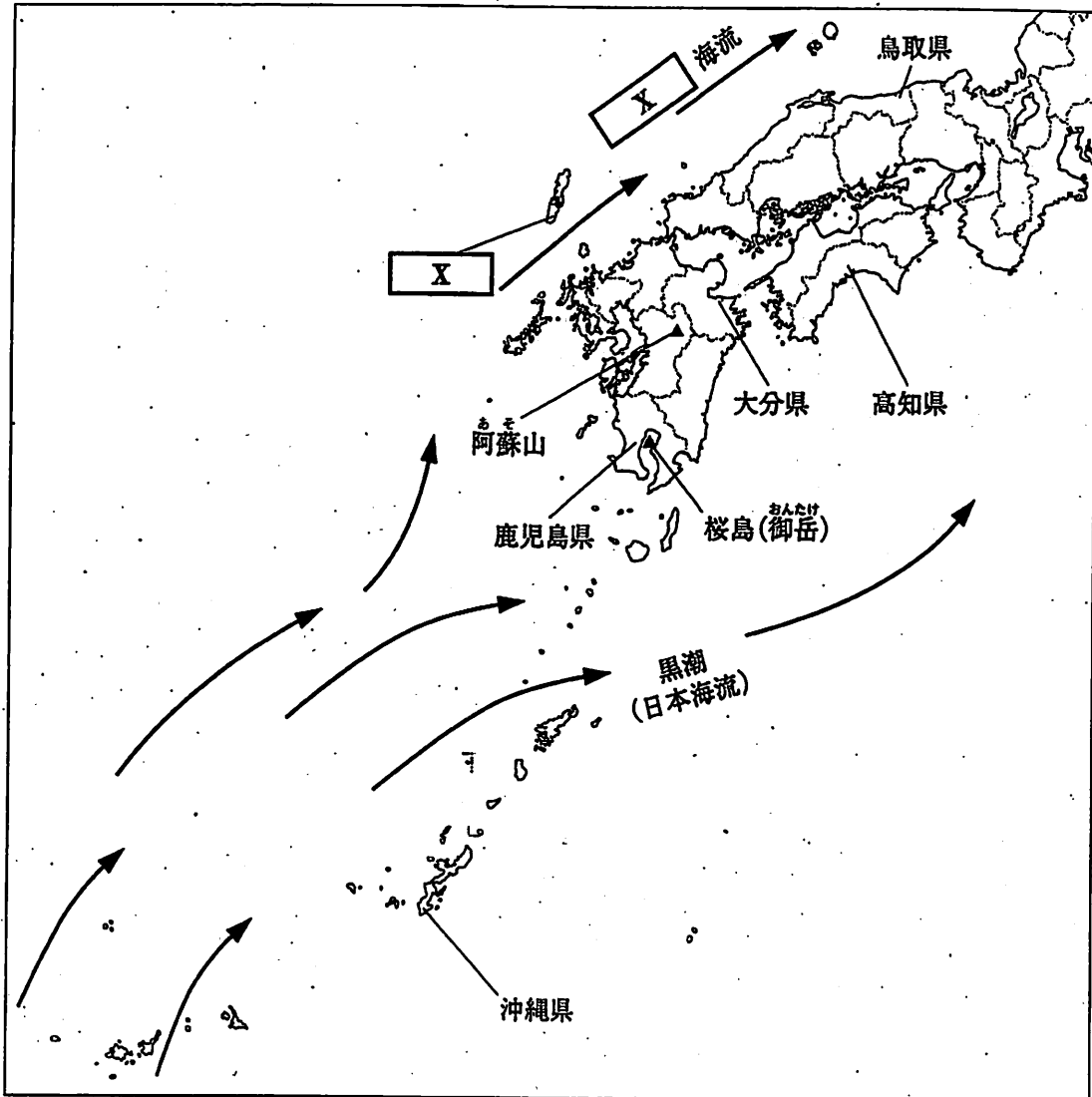
| | 国土面積 (万 km ²) | 人口 (万人) | 1人あたりのGNI (ドル) | 農地面積 (万 ha) | 農地面積の内訳 | | 牛の家畜頭数 (万頭) | 牛乳生産量 (万 t) |
|---------|------------------------------|------------|-------------------|----------------|---------|--------|----------------|----------------|
| | | | | | 耕地・樹園地 | 牧場・牧草地 | | |
| エチオピア | 110 | 9696 | 386 | 3626 | 1626 | 2000 | 5671 | 334 |
| インド | 329 | 129529 | 1561 | 17960 | 16936 | 1024 | 18700 | 6642 |
| オーストラリア | 769 | 2362 | 60167 | 40627 | 4731 | 35896 | 2910 | 954 |
| アメリカ合衆国 | 983 | 31945 | 56031 | 40821 | 15721 | 25100 | 8853 | 9346 |
| ブラジル | 852 | 20608 | 11493 | 28259 | 8659 | 19600 | 21237 | 3512 |

(世界国勢図会 2017/18年版などから作成)

- ア アメリカ合衆国とエチオピアを比べると、人口密度はアメリカ合衆国の方が高い。
- イ オーストラリアとブラジルを比べると、農地面積に占める牧場・牧草地の割合はオーストラリアの方が高い。
- ウ 5か国のうち、農地面積に占める耕地・樹園地の割合が最も高い国は、インドである。
- エ 5か国においては、国土面積が大きい順に、1人あたりのGNIが多い。
- オ 5か国においては、牛の家畜頭数が多い順に、牛乳生産量が多い。

2 Nさんは、地理的分野の授業で日本の諸地域を学習したあと、次の地図1を作成しました。地図1をみて、問1～問5に答えなさい。(15点)

地図1



問1 Nさんは、九州地方の自然について調べ、地図1中に二つの暖流を模式的に示し、次のようにまとめました。地図1とまとめの中にある , にあてはまる語を、それぞれ書きなさい。(3点)

まとめ

九州地方は、日本列島の南西に位置する地域で、九州島に加えて、 や五島列島、南西諸島などの島々が、南北に長く連なります。九州地方の近海には、暖流の黒潮(日本海流)と 海流が流れており、冬でも比較的温暖です。

九州島のほぼ中央部には、阿蘇山の巨大な があります。 とは、火山の爆発や噴火による陥没などによってできた大きなくぼ地のことです。桜島(御岳)を取り囲む鹿児島湾は、 に海水が入ってできた湾です。

問 4 右の資料は、地図1中の高知県で見られる、ビニールハウスを利用して出荷時期を早める工夫をしたある栽培方法による、なすの収穫の様子です。また、次の表2は、Nさんが、高知県における東京都中央卸売市場へのなすの出荷などについて調べ、まとめたものです。表2をみて、群馬県と比較した高知県のなすの出荷の特色について、出荷時期に着目し、ある栽培方法の名称を用いて、説明しなさい。(5点)

資料

掲載許諾申請中

表2 東京都中央卸売市場におけるなすの月別入荷量(2017年1月～12月)

掲載許諾申請中

(東京都中央卸売市場ホームページから作成)

問 5 右の地図2は、地図1中の高知県の一部を示した2万5千分の1の地形図です。地図2から読みとれる内容を述べた文として下線部が正しいものを、次のア～オの中からすべて選び、その記号を書きなさい。(3点)

ア A地点の「あぞうの」駅からB地点の「とさいっく」駅まで列車で移動する途中には、進行方向右側に工場がある。


イ C地点からD地点までの直線距離は、地図上で約7cmであり、実際の直線距離は約1250mである。

ウ E地点には、老人ホームがある。

エ Fの範囲内には、果樹園がみられる。

オ G地点の高さとH地点の高さを比べると、G地点の方が高い。

地図 2



掲載許諾申請中

(国土地理院 2 万 5 千分の 1 地形図「高知」平成 20 年発行一部改変)

- 3 Tさんは、日本の5つの異なる時代の仏教について調べ、次のようにまとめました。これを見て、問1～問5に答えなさい。(15点)

| | |
|-----|--|
| I | 聖武天皇は、仏教の力にたよって、伝染病や災害などの不安から国家を守ろうと考え、国ごとに国分寺や国分尼寺を建てた。 |
| II | 阿弥陀仏にすがって死後に極楽浄土へ生まれ変わることを願う浄土信仰が広まった。栄華をほこった藤原氏もこの阿弥陀仏を信仰するようになり、藤原頼通は平等院鳳凰堂を建てた。 |
| III | 日蓮は、「南無妙法蓮華経」と題目を唱えれば人も国家も救われると説き、日蓮宗を開いた。また、栄西や道元は、座禅によって自分の力でさとりを開こうとする禅宗を中国から伝えた。 |
| IV | 禅宗の僧が、幕府の使者として中国や朝鮮に派遣されるなど、政治や外交で重要な役割を果たした。また、禅宗の僧が中国からもたらした水墨画が盛んになり、雪舟が名作を残した。 |
| V | 宗門改で仏教徒であることを寺に証明させ、葬式も寺で行われるようになった。宗門改帳は宗派別に寺が作成し、戸籍の役割も果たした。 |

- 問1 Iの時代における社会や経済の様子を述べた文として正しいものを、次のア～エの中から一つ選び、その記号を書きなさい。(2点)

- ア 人々に開墾をすすめるため、墾田永年私財法が出され、新しく開墾した土地の私有が認められるようになった。
- イ 商人や手工業者らは、同業者ごとに座とよばれる団体をつくり、武士や貴族、寺社などにお金などで税を納めて保護を受け、営業を独占する権利を認められた。
- ウ 武士の領地は分割相続で、女子にも分けあたえられたため、女性で地頭になる者もあらわれた。
- エ 都市では、問屋や仲買などの大商人が、株仲間という同業者組織をつくり、幕府の許可を得て営業を独占した。

- 問2 IIの時代に起こった世界のできごとを述べた文として、その正誤の組み合わせが正しいものを、下のア～エの中から一つ選び、その記号を書きなさい。(3点)

| | |
|---|--|
| X | 唐がほろんだ後、小国に分かれていた中国を宋が統一し、また、朝鮮半島では高麗がおこり、やがて新羅をほろぼした。 |
| Y | アラビア半島の都市メッカに生まれたムハンマドによって、イスラム教が開かれた。 |
| Z | フランスでは、身分の特権を廃止し、人間の自由と平等、国民主権、私有財産の不可侵などを唱える人権宣言が発表された。 |

- ア X 正 Y 正 Z 誤 イ X 正 Y 誤 Z 誤
- ウ X 誤 Y 正 Z 誤 エ X 誤 Y 誤 Z 正

問 3 Tさんは、Ⅲの時代に開かれた新しい仏教について調べ、次のようにまとめました。まとめの中の **A** にあてはまる人物名を書きなさい。(3点)

まとめ

| | |
|---|---|
| <p>時宗を開いた A は、念仏をすすめるために、念仏の札を配ったり、踊りを取り入れたりするなど、工夫をこらしました。右の資料1は、京都での踊念仏の様子をえがいた絵で、多くの人々が見物のため周囲に集まっています。</p> | <p>資料1</p> <div style="border: 1px solid black; width: 100%; height: 100%; text-align: center; padding: 20px;"> <p>掲載許諾申請中</p> </div> |
|---|---|

問 4 Tさんは、文化に興味をもち調べたところ、次の a、b の文と資料2、資料3をみつけました。Ⅳの時代の文化について述べた文と、その時代の代表的な文化財の組み合わせとして正しいものを、表中のア～エの中から一つ選び、その記号を書きなさい。(2点)

- a 武士や民衆の力がのびるにつれて、文化にも新しい動きが起こり、文学では、鴨長明の「方丈記」や、兼好法師の「徒然草」などの随筆が書かれた。
- b 民衆にも文化が広がり、「一寸法師」や「浦島太郎」などのお伽草子とよばれる絵入りの物語が生まれた。

資料2

掲載許諾申請中

とうくどうどうじんさい
東求堂同仁齋

資料3

掲載許諾申請中

東大寺南大門

表

| | 文化 | 代表的な文化財 |
|---|----|---------|
| ア | a | 資料2 |
| イ | a | 資料3 |
| ウ | b | 資料2 |
| エ | b | 資料3 |

問 5 次の資料4は、Ⅴの時代の第3代将軍のときに出されたある法令の一部をわかりやすくおしたものです。第3代将軍のときに制度として定められた資料4中の下線部の内容を書きなさい。また、第3代将軍の名前を書きなさい。(5点)

資料4

- 一 大小の大名は、参勤交代するよう定めるものである。…
- 一 500石積み以上の船をつくってはならない。

おふれがきかんぼうしゅうせい
〔御触書寛保集成〕より一部要約

4 次の年表をみて、問1～問5に答えなさい。(15点)

| 西暦(年) | できごと |
|-------|-------------------------|
| 1858 | ・日米修好通商条約が結ばれる…………… |
| 1889 | ・大日本帝国憲法が公布される…………… |
| 1917 | ・ロシア革命が起こる…………… C |
| 1929 | ・世界恐慌が起こる…………… |
| 1951 | ・サンフランシスコ平和条約が結ばれる…………… |
| 1973 | ・石油危機が起こる…………… |
| 1991 | ・ソ連が解体する…………… |

問1 次のア～エは、年表中Aの時期のできごとについて述べた文です。年代の古い順に並べかえ、その順に記号で書きなさい。(3点)

- ア 岩倉具視や木戸孝允、大久保利通などを中心とする政府の使節団が、欧米に派遣された。
- イ 西郷隆盛を中心として、鹿児島士の士族などが西南戦争を起こした。
- ウ 生麦事件の報復のため起こった薩英戦争で、イギリス艦隊が鹿児島を攻撃した。
- エ 江華島事件を口実に、政府は朝鮮と日朝修好条規を結び、朝鮮を開国させた。

問2 次の文章は、年表中Bの時期における日本の外交についてまとめたものです。まとめ1の中の にあてはまる人物名を書きなさい。(3点)

まとめ1

近代国家を旨とする日本にとって、外交上の重要な課題は、幕末に欧米諸国と結んだ不平等条約を対等なものに改正することであった。

日本が立憲政治を実現するなど、近代国家のしくみを整えたことを背景に、イギリスが、日本との条約改正に応じた。1894年、 が外相のときに、日英通商航海条約が結ばれ、領事裁判権が撤廃された。

問 3 次の資料は、米騒動の様子をえがいたものの一部です。米騒動が起きた理由を、年表中Cのロシア革命への干渉戦争の名称を用い、表から読みとれる米の価格の変化に着目して書きなさい。(5点)

資料

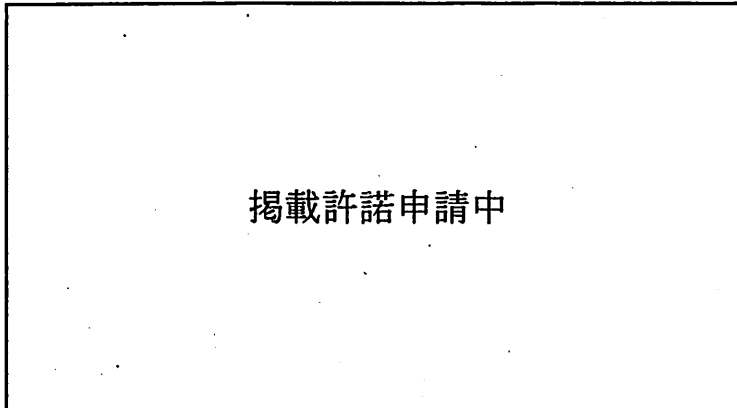



表 米1石あたりの価格の変化



(日本金融史資料から作成)

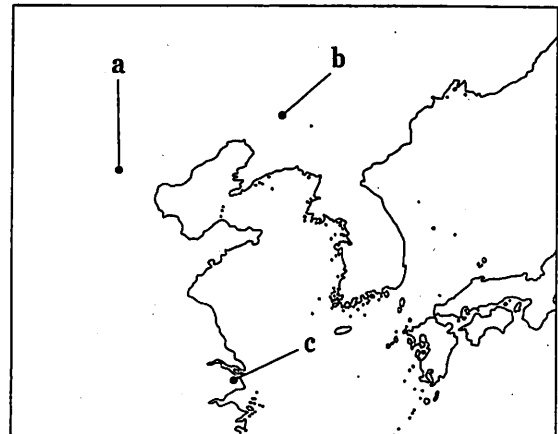
問 4 次の文章は、年表中Dの時期のできごとについてまとめたものです。まとめ2の中の にあてはまる語と の地図中の位置の組み合わせとして正しいものを、下のア～カの中から一つ選び、その記号を書きなさい。(2点)

まとめ2

国際連盟は、1933年に開かれた総会で、満州国を認めず、日本軍の占領地からの撤兵を求める勧告を採択した。その後、日本は、国際連盟を脱退した。

1937年7月、北京郊外の 付近で、日本軍と中国軍の武力衝突が起こった。この 事件をきっかけに、日中戦争が始まった。

地図



- | | | | | | |
|---|-------|------|---|-------|------|
| ア | Y-盧溝橋 | 位置-a | イ | Y-盧溝橋 | 位置-b |
| ウ | Y-盧溝橋 | 位置-c | エ | Y-柳条湖 | 位置-a |
| オ | Y-柳条湖 | 位置-b | カ | Y-柳条湖 | 位置-c |

問 5 年表中Eの時期における日本の社会や経済の様子を述べた文として正しいものを、次のア～エの中から一つ選び、その記号を書きなさい。(2点)

- ア 大気汚染や水質汚濁などの公害問題が深刻化し、公害対策基本法が制定された。
- イ バブル経済と呼ばれる、投機によって株式と土地の価格が異常に高くなる好景気が発生した。
- ウ 労働争議が増加し、12歳未満の就労禁止、労働時間の制限などを定めた工場法が制定された。
- エ 朝鮮戦争が始まると、大量の軍需物資が日本で調達され、好景気になった。

5 Kさんのクラスでは、公民的分野の学習のまとめとして、自分の興味のある分野からテーマを選び、調べることになりました。次の表1は、Kさんが興味をもった分野とテーマについてまとめたものです。表1をみて、問1～問8に答えなさい。(25点)

表1

| 分野 | テーマ |
|--------------|---------------------------------|
| 人権と共生社会 | ・どのような①人権が保障されているのだろうか。 |
| 国の政治のしくみ | ・②国会と内閣の関係はどのようなものなのだろうか。 |
| 裁判の種類と人権 | ・③裁判にはどのような種類があるのだろうか。 |
| 消費生活と④市場経済 | ・⑤銀行や日本銀行はどのような仕事をしているのだろうか。 |
| 私たちの生活と⑥財政 | ・国や地方公共団体はどのような経済活動を行っているのだろうか。 |
| 国際社会のしくみ | ・⑦国際連合はどのようなしくみで運営されているのだろうか。 |
| これからの地球社会と日本 | ・日本はどのような⑧国際貢献をしているのだろうか。 |

問1 Kさんは、下線部①に関連して、基本的人権を保障するためのある権利について調べ、次の表2をつくりました。表2中の にあてはまる語を書きなさい。(3点)

表2

| <input type="text" value="X"/> | |
|-------------------------------------|---|
| 国家賠償 <input type="text" value="X"/> | 公務員の行為によって受けた損害に対して賠償を求める権利。 |
| 刑事補償 <input type="text" value="X"/> | 事件の犯人として裁判に訴えられ、その後無罪になったり、一度有罪となった人がやり直しの裁判で無罪と判断されたりした場合に、国に補償を求める権利。 |
| 裁判を受ける権利 | 人権が侵害されたことを裁判所に訴えて、公正な裁判を受ける権利。 |

問2 右の資料1は、Kさんが下線部②について調べたときにみつけた新聞記事の見出しです。資料1のように内閣不信任案が可決された場合、内閣はどのようなことを選択しなければならないかを具体的に説明しなさい。(5点)

資料1

掲載許諾
申請中

問3 下線部③に関連して、Kさんは、刑事裁判について学ぶ授業において模擬裁判を行いました。次は、模擬裁判の台本の一部です。台本中の ～ にあてはまる語の組み合わせとして正しいものを、あとのア～カの中から一つ選び、その記号を書きなさい。(2点)

| 役割 | まじりよ 台詞 |
|-----|---|
| A | それでは、被告人に対する事件の審理を始めます。 ～ 省略 ～ |
| B | B, 起訴状を読んでください。 (起訴状を読む) ～ 省略 ～ |
| A | ここで、被告人に注意しておくことがあります。被告人には、黙秘権という権利があります。答えたくない質問には答えなくても構いません。そこで、質問しますが、先ほど B が読み上げた起訴状の内容は間違いないですか。 |
| 被告人 | 全然違います。私はやっていません。 |
| A | C の意見はいかがですか。 |
| C | 被告人が述べたとおりです。被告人は犯人ではなく、無罪です。 |

- ア A-検察官 B-弁護士 C-裁判官 イ A-検察官 B-裁判官 C-弁護士
ウ A-弁護士 B-検察官 C-裁判官 エ A-弁護士 B-裁判官 C-検察官
オ A-裁判官 B-弁護士 C-検察官 カ A-裁判官 B-検察官 C-弁護士

問 4 次は、下線部④について学ぶ授業における、先生とKさんの会話です。会話文中の I ~ IV にあてはまる言葉の組み合わせとして正しいものを、下のA～エの中から一つ選び、その記号を書きなさい。(2点)

先 生：宿泊料金に関して、資料2からどのようなことが **資料2**
読みとれますか。

Kさん：宿泊の曜日などによって宿泊料金が違います。日曜から金曜は宿泊料金が安く、土曜や祝前日は宿泊料金が高いです。なぜ曜日などによって宿泊料金が違うのですか。

| | |
|--------|---------|
| 日曜～金曜 | 11000 円 |
| 土曜・祝前日 | 13000 円 |

先 生：価格は、一般的に I と II との関係で変化します。ホテルなどの宿泊料金の場合、部屋数という I が変わらないのに対して、宿泊客数という II は変化します。このことをふまえて、考えてみてください。

Kさん：土曜や祝前日は、限られた数の部屋数に対して多くの宿泊客が集まるため、宿泊料金は III ます。日曜から金曜は、土曜や祝前日に比べて、宿泊客が少なくなるので、宿泊料金は IV ます。だから、宿泊料金に違いがあるのですね。

先 生：そうです。曜日などによって宿泊料金が違う理由が理解できましたね。

- ア I - 需要量 II - 供給量 III - 上がり IV - 下がり
イ I - 需要量 II - 供給量 III - 下がり IV - 上がり
ウ I - 供給量 II - 需要量 III - 上がり IV - 下がり
エ I - 供給量 II - 需要量 III - 下がり IV - 上がり

問 5 Kさんは、下線部⑤について調べ、次のようにまとめました。まとめ1の中の にあてはまる語を書きなさい。(2点)

まとめ1

銀行はさまざまな仕事をしていますが、特に重要なのは、人々の貯蓄を預金として集め、それを家計や企業に貸し出すことです。資金の借り手は銀行に対して、借り入れた金額を期限内に返済するだけでなく、一定期間ごとに を支払わなければなりません。元金に対する の比率を金利といいます。銀行は貸し出し先から を取り、預金者には を支払います。貸し出し金利は預金金利を上回り、その差が銀行の収入になります。

問 6 下線部⑥について、現在の日本の財政に関して述べた文として正しいものを、次のア～オの中からすべて選び、その記号を書きなさい。(3点)

- ア 内閣が作成した国の予算は、先に衆議院から審議が行われることとなっている。
- イ 税収の増加が財政規模の拡大に追いつかず、財政黒字が続き、債務残高が増加している。
- ウ 税金を納めなければならない人と、実際に負担する人が同じ税金を直接税といい、所得税や法人税は直接税にあたる。
- エ 政府の収入は、原則として税金によってまかなわなければならないが、税金だけで必要な収入がまかなえない場合、公債を発行して、資金を借り入れる。
- オ 所得税は、所得に関係なく同じ税率を適用するため、低所得の方が所得全体に占める税負担の割合が高くなる傾向がある。

問 7 下線部⑦に関連して、次の表3は、2017年12月の安全保障理事会における、ある重要な決議案の表決をまとめたものです。表3をみて、この決議案が可決されたか、否決されたかを、そう判断した理由とともに説明しなさい。(5点)

表3

| 国名 | 表決 |
|---------|----|
| アメリカ合衆国 | 反対 |
| イギリス | 賛成 |
| イタリア | 賛成 |
| ウクライナ | 賛成 |
| ウルグアイ | 賛成 |
| エジプト | 賛成 |
| エチオピア | 賛成 |
| カザフスタン | 賛成 |
| スウェーデン | 賛成 |
| セネガル | 賛成 |
| 中国 | 賛成 |
| 日本 | 賛成 |
| フランス | 賛成 |
| ボリビア | 賛成 |
| ロシア | 賛成 |

問 8 Kさんは、下線部⑧に関連して、日本の国際貢献について調べ、次のようにまとめました。

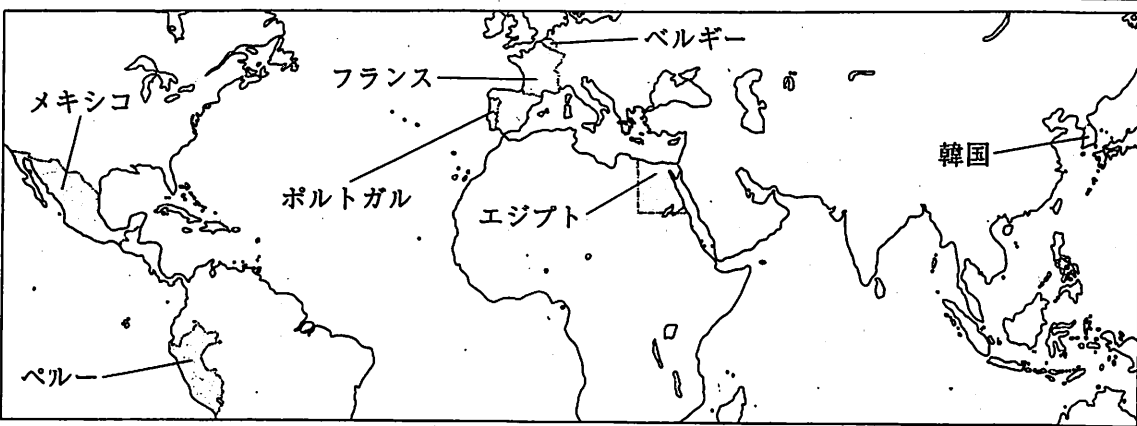
まとめ2の中の にあてはまる語を書きなさい。(3点)

まとめ2

第二次世界大戦後の日本の外交は、平和主義と国際貢献を重視してきました。国際貢献については、技術援助をふくむ政府開発援助などを中心に、途上国の開発を支援しています。また、近年では、1992年に制定された国際平和協力法(協力法)に基づいて、カンボジアや東ティモールなどでの国際連合の平和維持活動()に自衛隊を派遣するなど、国際連合の取り組みに対する人的な協力も行っています。

- 6 Hさんは、2018年にロシアで開催されたサッカーワールドカップに出場した国の中から、興味のある国の歴史や地理について調べ、次の資料1をつくりました。資料1をみて、問1～問4に答えなさい。(15点)

資料1

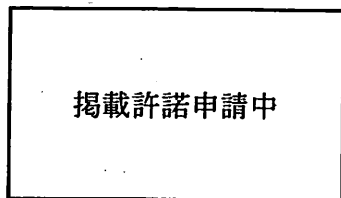


| | | | |
|---|---|---|--|
| <p>エジプト <首都>カイロ ①紀元前3000年ごろには、国々が統一され、神殿や、神のように敬われた国王の墓としてピラミッドが造られるようになった。</p> | <p>②ペルー <首都>リマ 太陽神を信仰し、高度な石造建築技術をもつ、広大なインカ帝国が栄えた。</p> | <p>ポルトガル <首都>リスボン 1543年、中国の商船に乗って、③種子島に流着いたポルトガル人が、日本に鉄砲を伝えた。</p> | |
| <p>メキシコ <首都>メキシコシティ 銀の産出量は世界最大の規模である。</p> | <p>フランス <首都>パリ EU最大の農業国であり、世界有数の小麦輸出国である。</p> | <p>ベルギー <首都>ブリュッセル 暖流の影響により温帯な気候をもち、全土が温帯に属している。</p> | <p>韓国 <首都>ソウル 1970年代以降、経済成長を果たし、新興工業経済地域(NIES)の一つとなった。</p> |

問1 Hさんは、古代文明に興味をもち調べたところ、次のa、bの文と資料2、資料3をみつけました。下線部①の文明について述べた文と、この文明で発明された文字の組み合わせとして正しいものを、表中のア～エの中から一つ選び、その記号を書きなさい。(2点)

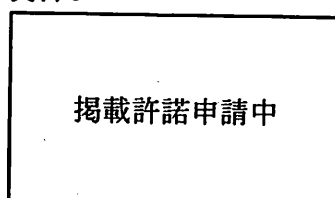
- a 川のはんらんの時期を知るために天文学が発達し、太陽を基準にして1年を365日として12か月に分ける太陽暦がつくられた。
- b 月の満ち欠けにもとづく太陰暦や、時間を60進法で測ること、1週間を7日とすることが考え出された。

資料2



くさび形文字

資料3



象形文字

表

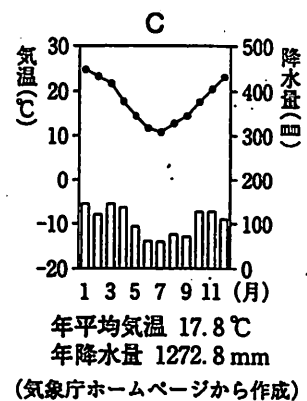
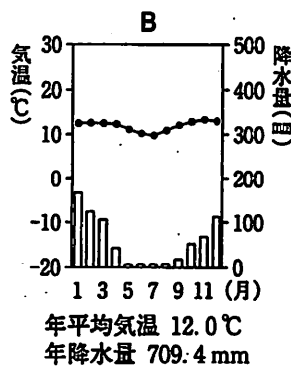
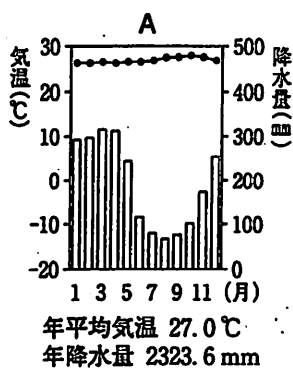
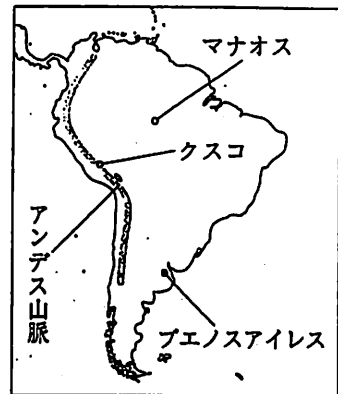
| | 文明 | 発明された文字 |
|---|----|---------|
| ア | a | 資料2 |
| イ | a | 資料3 |
| ウ | b | 資料2 |
| エ | b | 資料3 |

問 2 下線部②の国がある大陸についてまとめた地図をみて、次の(1)と(2)の問いに答えなさい。

(1) 地図中で模式的に示したアンデス山脈は、日本列島と同じ造山帯の範囲に位置しています。この造山帯の名称を書きなさい。(3点)

(2) Hさんは、地図中に示したマナオス、クスコ、ブエノスアイレスの三つの都市の気温と降水量を調べ、次のA～Cのグラフをつくりました。このうち、高山気候に属するクスコの気温と降水量を示すものを、A～Cの中から一つ選び、その記号を書きなさい。(2点)

地図



問 3 Hさんは、下線部③のできごとから、鎖国の体制が固まるまでのできごとについて調べ、次の年表にまとめました。年表中の **W** ~ **Z** にあてはまるできごとを、下のア～エの中から一つずつ選び、その記号を書きなさい。(3点)


年表

| 西暦(年) | できごと |
|-------|-------------------|
| 1543 | ・ポルトガル人が鉄砲を伝える |
| 1573 | ・室町幕府がほろびる |
| 1582 | ・ W |
| 1603 | ・江戸に幕府が開かれる |
| 1612 | ・ X |
| 1635 | ・日本人の海外渡航・帰国を禁止する |
| 1637 | ・ Y |
| 1639 | ・ Z |
| 1641 | ・オランダ商館を長崎の出島に移す |

- ア キリシタン大名の大友宗麟などが、四人の少年使節をローマ教皇のもとに派遣する
- イ 神の使いとされた天草四郎という少年を大将にした島原・天草一揆が起こる
- ウ ポルトガル船の来航を禁止する
- エ 幕府が、幕領にキリスト教禁止令を出す

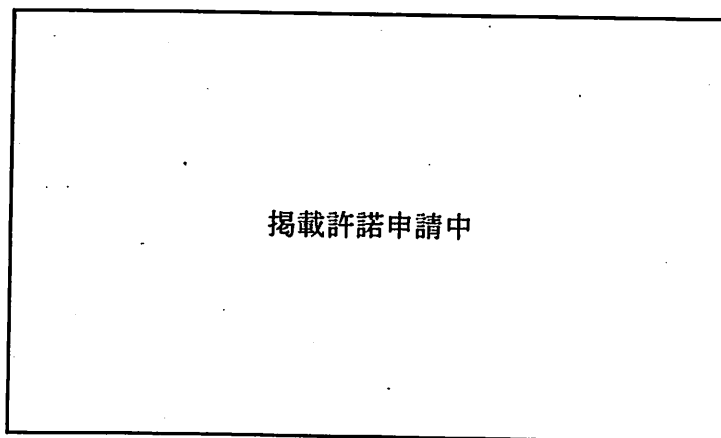
問 4 Hさんは、資料1中のメキシコ、ポルトガル、フランス、ベルギー及び韓国の社会保障などについて調べ、次のグラフ1、グラフ2をつくりました。グラフ1とグラフ2から読みとれるヨーロッパ州の国の特色を、ヨーロッパ州以外の国と比較して書きなさい。(5点)

グラフ1 年齢3区分別人口割合(2010年)



(国際連合ホームページから作成)

グラフ2 国内総生産(GDP)に対する社会保障支出の割合(2010年)



(OECDホームページから作成)

(以上で問題は終わりです。)

社 会 解 答 用 紙 (1)

1

| | |
|-----|-----------|
| 問 1 | 大陸 |
| 問 2 | |
| 問 3 | 教 |
| 問 4 | (変化) 州 |
| 問 5 | |

2

| | | |
|-----|---|---|
| 問 1 | X | Y |
| 問 2 | | |
| 問 3 | | |
| 問 4 | | |
| 問 5 | | |

3

| | |
|-----|--------------|
| 問 1 | |
| 問 2 | |
| 問 3 | |
| 問 4 | |
| 問 5 | (内容) (名前) |

1~3の計

| |
|--|
| |
|--|

受 検 番 号 第 番

(切りはなしてはいけません)

(同じものを複数回書いてはいけません)

社 会 解 答 用 紙 (2)

4

| | |
|-----|--|
| 問 1 | |
| 問 2 | |
| 問 3 | |
| 問 4 | |
| 問 5 | |

5

| | |
|-----|--|
| 問 1 | |
| 問 2 | |
| 問 3 | |
| 問 4 | |
| 問 5 | |
| 問 6 | |
| 問 7 | |
| 問 8 | |

6

| | |
|-----|----------------|
| 問 1 | |
| 問 2 | (1) 遼山帯 (2) |
| 問 3 | W X Y Z |
| 問 4 | |

1~3の計

| |
|--|
| |
|--|

得 点 番

受 検 番 号 第 番