

受検番号	第	番
------	---	---

平成 29 年度 学力 検査 問題

社 会 (11 時 45 分 ~ 12 時 35 分)  
(50 分間)

注 意

1 解答用紙について

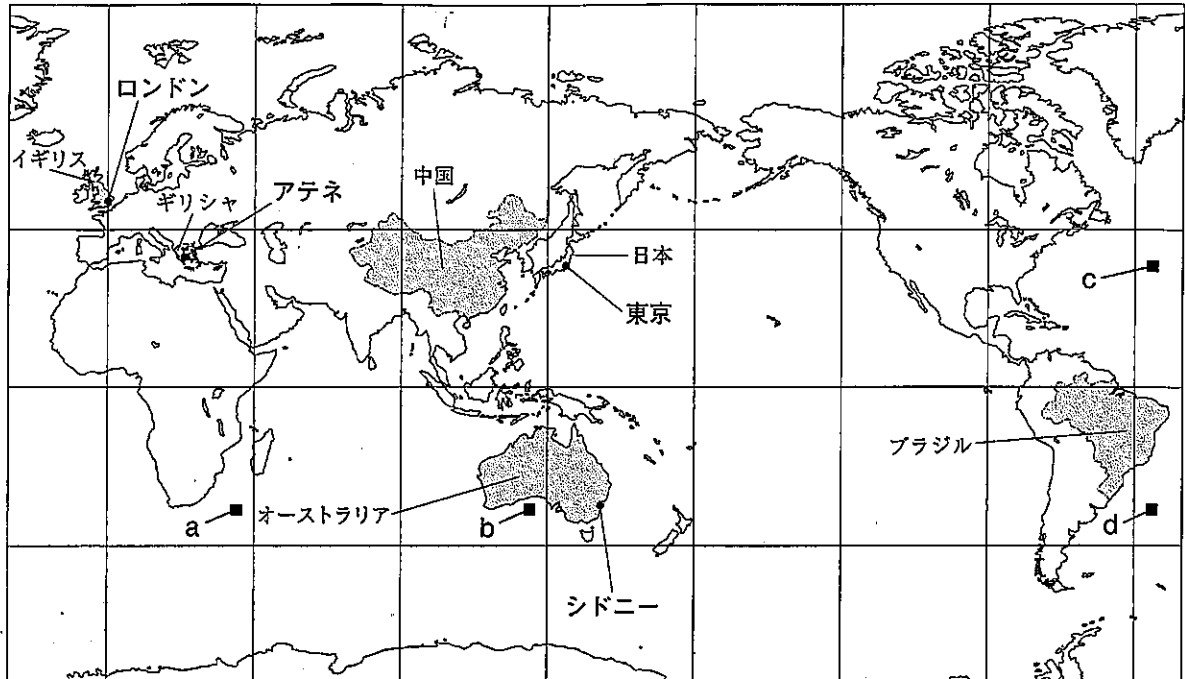
- (1) 解答用紙は 1 枚で、問題用紙にはさんであります。
- (2) 係の先生の指示に従って、所定の欄 2 か所に受検番号を書きなさい。
- (3) 答えはすべて解答用紙のきめられたところに、はっきりと書きなさい。
- (4) 解答用紙は切りはなしてはいけません。
- (5) 解答用紙の \* 印は集計のためのもので、解答には関係ありません。


2 問題用紙について

- (1) 表紙の所定の欄に受検番号を書きなさい。
  - (2) 問題は全部で 6 問あり、表紙を除いて 16 ページです。
- 印刷のはっきりしないところは、手をあげて係の先生に聞きなさい。

- 1 Kさんは、西暦2000年以降にオリンピック・パラリンピック競技大会夏季大会が開催されたイギリス、ギリシャ、中国、オーストラリア、ブラジルと、次回開催予定の日本について調べました。次の地図をみて、問1～問5に答えなさい。(15点)

地図

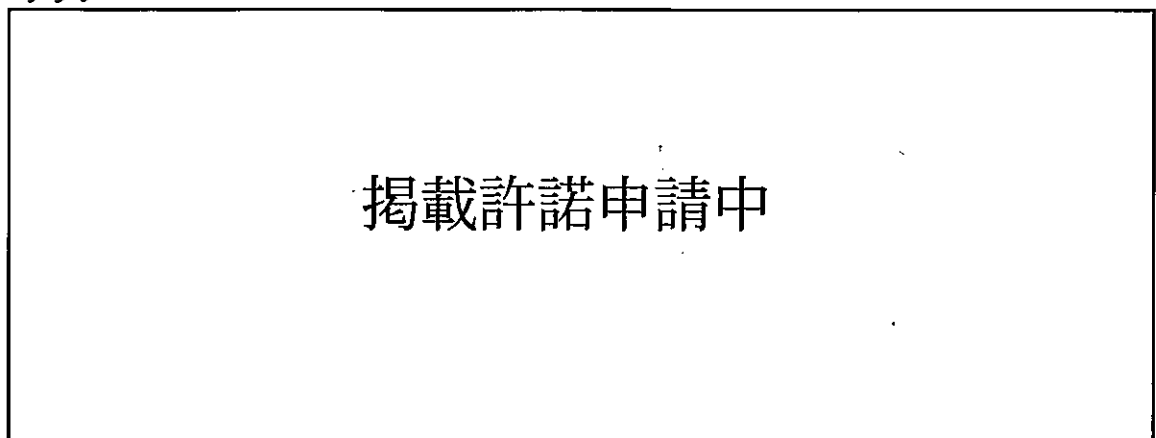


問1 六大陸のうち、地図中に  で示した、西暦2000年以降にオリンピック・パラリンピック競技大会夏季大会が開催された国のある大陸の名称を、オーストラリア大陸を除いて二つ書きなさい。(3点)

問2 東京を、地球の中心を通過して正反対に移した地点(対せき点)として最も適切なものを、地図中のa～dの中から一つ選び、その記号を書きなさい。(2点)

問3 Kさんは、地図中に示した、ロンドン、アテネ、東京、シドニーの4つの都市の気温と降水量を調べ、次のA～Dのグラフをつくりました。このうち、西岸海洋性気候に属するロンドンの気温と降水量を示すものを、A～Dの中から一つ選び、その記号を書きなさい。(2点)

グラフ



(理科年表 平成28年から作成)

問 4 次のグラフ1とグラフ2は、地図中の日本とオーストラリアとの貿易についてまとめたものです。グラフ1とグラフ2から読みとれる日本からみたオーストラリアとの貿易の特色を、総額と品目に着目して書きなさい。(5点)

グラフ1 日本からオーストラリアへの  
輸出総額と輸出上位3品目の割合

グラフ2 日本のオーストラリアからの  
輸入総額と輸入上位3品目の割合

掲載許諾申請中

(日本国勢図会 2016/17年版から作成)

問 5 次の表は、地図中のイギリス、中国、ブラジルにおける、1985年、2010年の人口と年齢別人口割合及び、2035年の人口と年齢別人口割合の予測を示したものです。表から読みとれる内容を述べた文として正しいものを、下のア～オの中からすべて選び、その記号を書きなさい。

(3点)

表

掲載許諾申請中

(国際連合・世界人口予測 1960-2060 2015年改訂版から作成)

ア イギリス、中国、ブラジルのいずれの国も、2010年の人口は1985年の人口より増加したが、2035年の人口は2010年の人口より減少すると予測される。

イ ブラジルにおいて、2035年の年少人口割合は、1985年の年少人口割合の半分以下になると予測される。

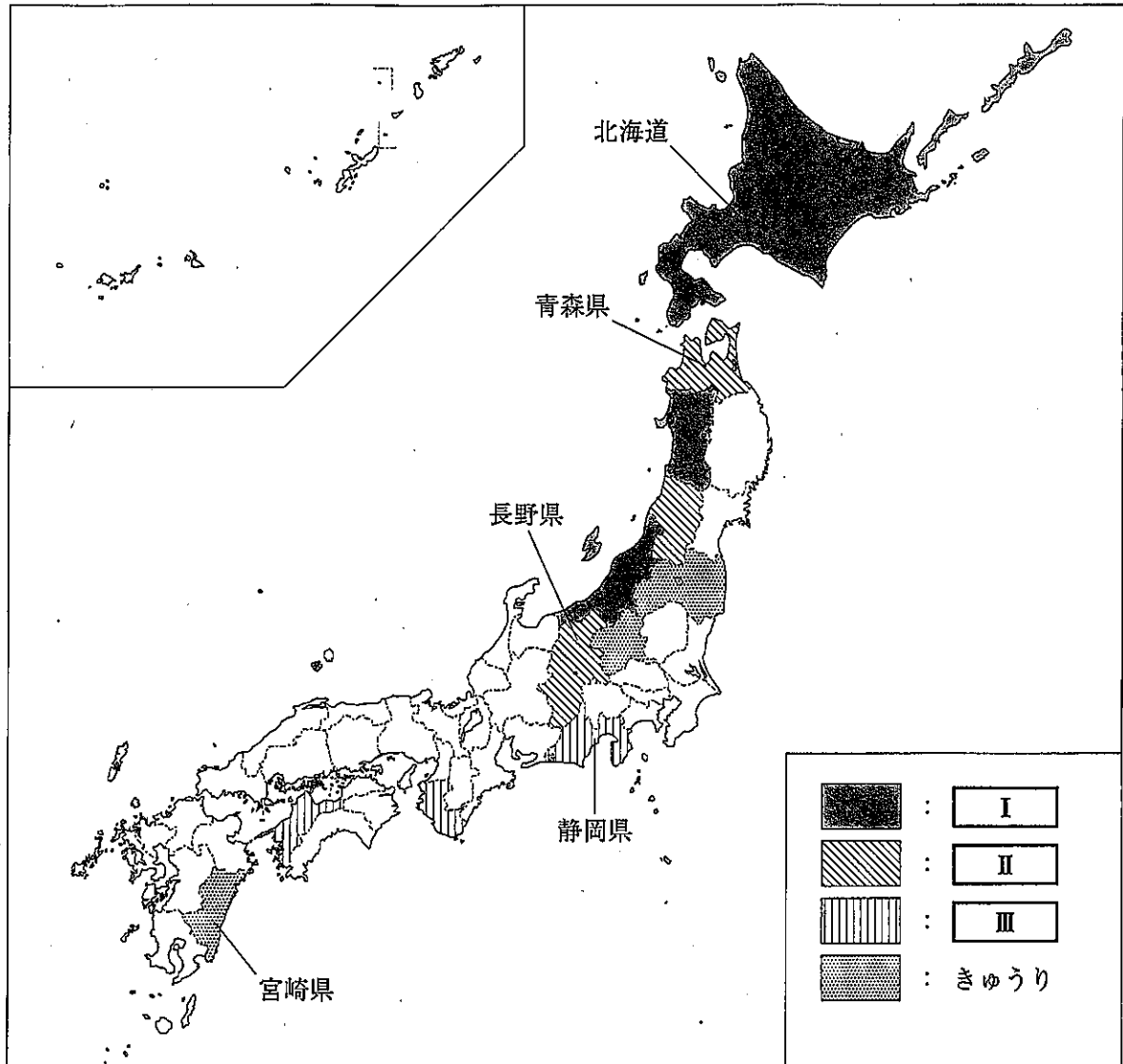
ウ 中国の2010年と2035年を比べると、年少人口割合の変化は、老年人口割合の変化より大きいと予測される。

エ イギリスにおいて、2035年の生産年齢人口は、2010年の生産年齢人口より増加すると予測される。

オ イギリス、中国、ブラジルのいずれの国も、2035年には、人口の5人に1人が65歳以上になると予測される。

2 Mさんは、地理的分野の授業で日本の農業などについて調べることにしました。地図1をみて、問1～問5に答えなさい。(15点)

地図1



問1 Mさんは、農産物について調べ、2014年における米、みかん、りんご、きゅうりの収穫量上位3位までの道県を地図1にあらわし、次の表1をつくりました。地図1及び表1の中の **I** ~ **III** にあてはまる農産物の組み合わせとして正しいものを、あとのア~カの中から一つ選び、その記号を書きなさい。(2点)

表1

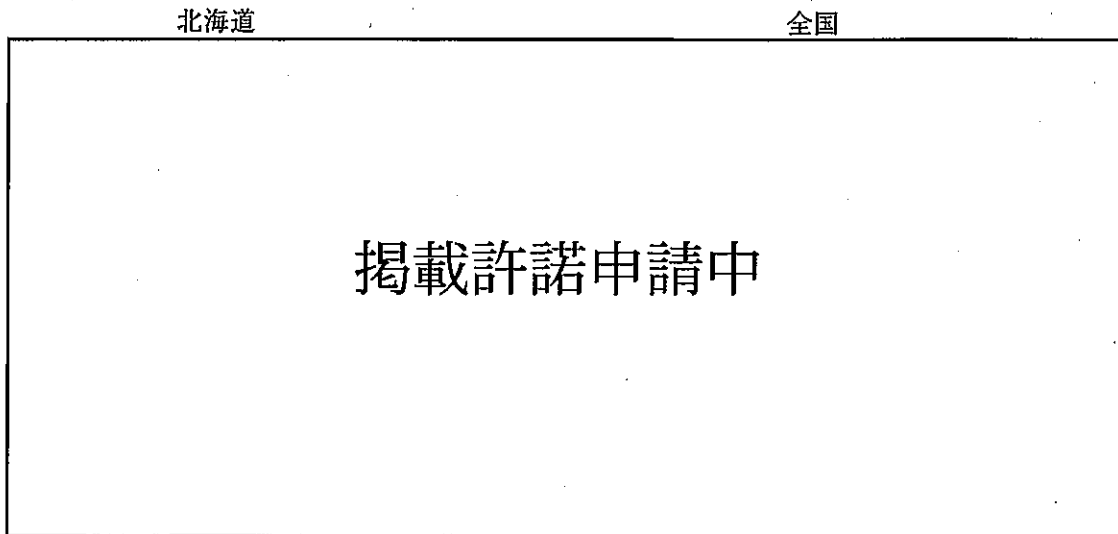
	<b>I</b>	<b>II</b>	<b>III</b>	きゅうり
1位	新潟県	青森県	和歌山県	宮崎県
2位	北海道	長野県	愛媛県	群馬県
3位	秋田県	山形県	静岡県	福島県

(データでみる県勢 2016年版から作成)

- |   |         |          |           |
|---|---------|----------|-----------|
| ア | I - みかん | II - 米   | III - りんご |
| イ | I - みかん | II - りんご | III - 米   |
| ウ | I - りんご | II - 米   | III - みかん |
| エ | I - りんご | II - みかん | III - 米   |
| オ | I - 米   | II - みかん | III - りんご |
| カ | I - 米   | II - りんご | III - みかん |

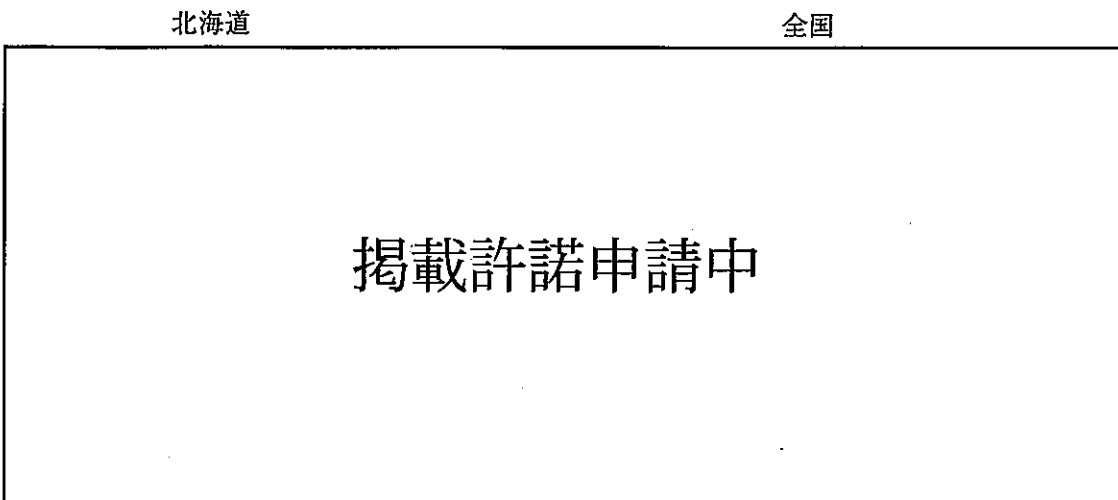
問 2 Mさんは、地図 1 中の北海道の農業の特色について調べるため、次のグラフ 1 とグラフ 2 を  
 つくりました。グラフ 1 とグラフ 2 から読みとれる北海道の農業の特色を、全国と比較して書  
 きなさい。(5 点)

グラフ 1 経営耕地面積の規模別農家数の割合(2010 年)



(2010 年世界農林業センサスから作成)

グラフ 2 農業産出額の割合(2010 年)



(平成 22 年生産農業所得統計から作成)

問 3 Mさんは、地図1中の宮崎県におけるきゅうりの栽培方法について調べ、次のようにまとめました。まとめの中の  X にあてはまる語を書きなさい。(3点)

まとめ

野菜や果実などは、多く出回る時期が決まっているので、価格の高い時期に出荷をするため、 <input checked="" type="checkbox"/> X 栽培や抑制栽培を行うことがあります。 <input checked="" type="checkbox"/> X 栽培は出荷時期を早めるくふうをした栽培方法で、資料のように、ビニールハウスや温室などの施設を利用することがあります。	資料  <b>掲載許諾申請中</b>
--	--------------------------

問 4 次の表2は、地図1中の北海道、青森県、長野県、静岡県の人ロ(2014年)、人口密度(2014年)、産業別人口割合(2012年)、農業産出額(2013年)、漁業生産量(2013年)、工業出荷額(2013年)を示したものです。青森県にあたるものを、表2中のア～エの中から一つ選び、その記号を書きなさい。(2点)

表2

<b>掲載許諾申請中</b>
----------------

(データでみる県勢2016年版から作成)

問 5 右の地図2は、地図1中の静岡県の沼津市及び清水町の一部を示した2万5千分の1の地形図です。地図2から読みとれる内容を述べた文として下線部が正しいものを、次のア～オの中からすべて選び、その記号を書きなさい。(3点)

ア A地点からB地点の直線距離は、地図上で約8cmであり、実際の直線距離は約4000mである。


イ C地点の高等学校からみると、D地点の神社は、およそ南東の方向にある。

ウ E地点の高さとF地点の高さを比べると、E地点の方が高い。

エ G地点には、図書館がある。

オ Hの範囲内は、おもに果樹園に利用されている。

地図 2



(國土地理院 2万5千分の1 地形図「蕨山」平成 20 年発行一部改変)





資料1

掲載許諾申請中

運慶らがつくった  
金剛力士像

資料2

掲載許諾申請中

俵屋宗達がえがいた風神雷神図屏風

表

	文化	代表的な文化財
ア	a	資料1
イ	a	資料2
ウ	b	資料1
エ	b	資料2

問4 下線部④の時代の社会や経済の様子を述べた文として正しいものを、次のア～オの中からすべて選び、その記号を書きなさい。(3点)

- ア 定期市が広く各地に生まれ、その取り引きには宋銭や明銭が使用されることが多かった。
- イ 深く耕すことのできる備中ぐわや、脱穀を効率的にする千歯こきなどが各地に伝わった。
- ウ 太閤検地が行われ、全国の土地は石高という統一的な基準であらわされるようになった。
- エ 海運業が発達し、大阪と江戸の間を、菱垣廻船や樽廻船が定期的に往復するようになった。
- オ 土倉や酒屋などをおそって借金の帳消しなどを求める土一揆が起こるようになった。

問5 下線部⑤について、次の(1)と(2)の問いに答えなさい。

(1) この改革を進めた老中で、「白河の清きに魚のすみかねて、もとのにごりの田沼こひしき」の狂歌で風刺された人物の名前を書きなさい。また、この改革の内容を述べた文として正しいものを、次のア～ウの中から一つ選び、その記号を書きなさい。(3点)

- ア 儉約令を出すとともに、旗本や御家人が札差からしていた借金を帳消しにした。
- イ 武士に質素・儉約を命じ、上げ米の制を定め、人材登用や新田開発を進めた。
- ウ 儉約令で町人の派手な風俗を取りしまったほか、営業を独占する株仲間解散を命じた。

(2) この改革と同時期の世界のできごとを述べた文として、その正誤の組み合わせが正しいものを、下のア～エの中から一つ選び、その記号を書きなさい。(2点)

X	ルターやカルバンが、ローマ教皇の方針を批判し、聖書のみにもとづく教会をめざして宗教改革を始めた。
Y	慢性的な財政赤字をかかえていたフランスで人々が立ち上がり、身分の特権を廃止し、自由、平等、人民主権、私有財産の不可侵などをうたう人権宣言が発表された。
Z	ロシアでは、労働者のストライキや兵士の反乱が続き、皇帝が退位して共和制の臨時政府ができたのち、レーニンの指導のもと、社会主義を唱える世界で最初の政府ができた。

- |   |     |     |     |   |     |     |     |
|---|-----|-----|-----|---|-----|-----|-----|
| ア | X 正 | Y 誤 | Z 誤 | イ | X 正 | Y 誤 | Z 正 |
| ウ | X 誤 | Y 正 | Z 誤 | エ | X 誤 | Y 正 | Z 正 |

4 次の年表をみて、問1～問5に答えなさい。(15点)

西暦(年)	できごと
1858	・安政の五か国条約が結ばれる……………
1894	・日清戦争が始まる……………
1904	・日露戦争が始まる……………
1914	・第一次世界大戦が始まる……………
1939	・第二次世界大戦が始まる……………
1945	・日本がポツダム宣言を受諾する……………
1951	・サンフランシスコ平和条約が結ばれる……………

問1 次のア～エは、年表中Aの時期における日本とイギリスとのかかわりについて述べた文です。

年代の古い順に並べかえ、その順に記号で書きなさい。(3点)

- ア 陸奥宗光が外務大臣のとき、領事裁判権の撤廃などを定めた日英通商航海条約を結んだ。
- イ ロシアの勢力拡大をみて、韓国での優位を確保したい日本と、清での利権の確保に日本の軍事力を利用したいイギリスとは日英同盟を結んだ。
- ウ イギリス船ノルマントン号が和歌山県沖で沈没し、日本人乗客全員が水死する事件が起きたが、イギリス領事裁判所は、イギリス人船長に軽い刑罰しかあたえなかった。
- エ 軍備を縮小し国民の負担を減らすため、日本はロンドン海軍軍縮会議に参加し、イギリスなどと協調して、軍縮条約を結んだ。

問2 年表中Bの時期における日本の社会や経済の様子を述べた文として正しいものを、次のア～エ

の中から一つ選び、その記号を書きなさい。(2点)

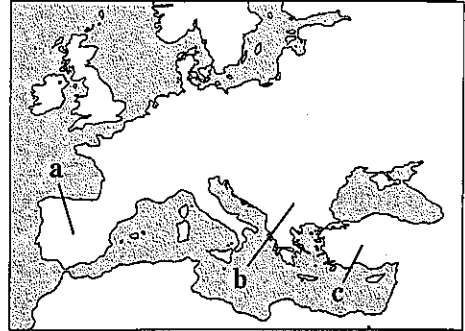
- ア 政府は地租改正を実施し財政を安定させたが、税の負担はほとんど変わらなかったため、各地で地租改正反対の一揆が起きた。
- イ 戦争による犠牲の大きさに比べて、日本の得た権益が少なかったとして、日比谷焼き打ち事件が発生した。
- ウ 日本の輸出を支える生糸の増産や品質の向上を図るため、群馬県に官営模範工場の富岡製糸場がつけられた。
- エ 戦争で得た賠償金をもとに、福岡県に官営の八幡製鉄所が建設され、操業を開始した。

問 3 次の文章は、年表中Cについてまとめたものです。まとめの中の **P** にあてはまる半島の名称と **P** の地図中の位置の組み合わせとして正しいものを、下のア～カの中から一つ選び、その記号を書きなさい。(2点)

まとめ

1914年、「ヨーロッパの火薬庫」と呼ばれた **P** にあるサラエボで、オーストリアの皇太子夫妻がセルビア人の青年に暗殺されました。オーストリアはセルビアに宣戦布告し、まもなく各国も参戦して、第一次世界大戦が始まりました。

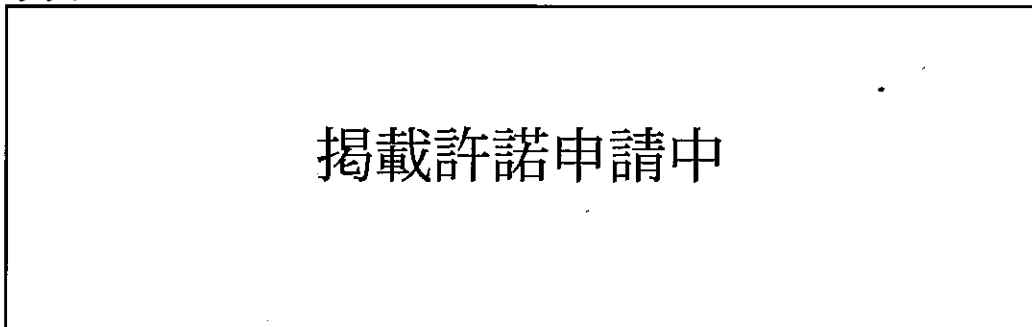
地図



- |                 |                 |
|-----------------|-----------------|
| ア P-イベリア半島 位置-a | イ P-イベリア半島 位置-b |
| ウ P-イベリア半島 位置-c | エ P-バルカン半島 位置-a |
| オ P-バルカン半島 位置-b | カ P-バルカン半島 位置-c |

問 4 次のグラフは、1940年と1950年の自作地と小作地の割合を示したものです。グラフ中の自作地と小作地の割合の変化は、年表中Dのある時期に、GHQの指令に従って民主化を進めるために行われたある政策によるものです。この政策の名称を書きなさい。また、この政策の内容を「地主」という語を用いて説明しなさい。(5点)

グラフ



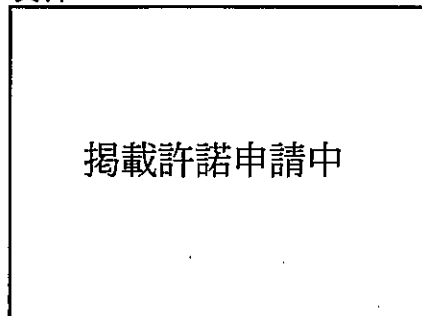
(近代日本経済史要覧から作成)

問 5 次は、年表中Eについてまとめたものです。まとめの中の **Q** にあてはまる人物の氏名を書きなさい。(3点)

まとめ

1951年、日本はアメリカなど48か国とサンフランシスコ平和条約を結びました。それと同時に、アメリカと日米安全保障条約を結びました。右の資料はサンフランシスコ平和条約の調印の様子で、中央で署名しているのは、日本の首席全権として出席した **Q** 首相です。

資料



- 5 Tさんのクラスでは、公民的分野の学習のまとめとして、自分の興味のある分野からテーマを選び、調べることになりました。次の表1は、Tさんが興味をもった分野とテーマについてまとめたものです。表1をみて、問1～問7に答えなさい。(24点)

表1

分野	テーマ
人権と共生社会	・① <u>社会権</u> とはどのような権利なのだろうか。
② <u>国の政治</u> のしくみ	・③ <u>国会</u> は国の政治の中でどのようなしくみで運営されているのだろうか。
中央銀行の役割	・④ <u>日本銀行</u> はどのような仕事をしているのだろうか。
政府の役割	・⑤ <u>政府の経済活動</u> はどのようにになっているのだろうか。
⑥ <u>国際社会</u> のしくみ	・⑦ <u>国際連合</u> はどのようなしくみで運営されているのだろうか。

- 問1 Tさんは、下線部①に関連して、労働者に保障されている労働基本権(労働三権)について調べ、次の表2をつくりました。表2中の  と  にあてはまる語を、それぞれ書きなさい。(各2点)

表2

労働基本権(労働三権)	
<input type="text" value="I"/> 権	労働者が労働組合をつくる権利
<input type="text" value="II"/> 権	労働組合が使用者と労働条件の改善を求めて話し合いを行う権利
団体行動権	労働者が労働条件の改善を求めてストライキなどを行う権利

- 問2 下線部②に関連して、内閣について述べた文として正しいものを、次のア～オの中からすべて選び、その記号を書きなさい。(3点)

- ア 法律、命令、規則又は処分が憲法に違反していないかを審査する違憲審査権をもっている。  
 イ 国政調査権をもち、証人喚問を行うなど、政治全般について調査することができる。  
 ウ 最高裁判所長官の指名とその他の裁判官の任命を行う。  
 エ 裁判官として職務を果たさなかったり、裁判官としてふさわしくない行為をしたりした裁判官を辞めさせるかどうかを判断する弾劾裁判所を設置する。  
 オ 天皇の国事行為に対する助言と承認を行う。

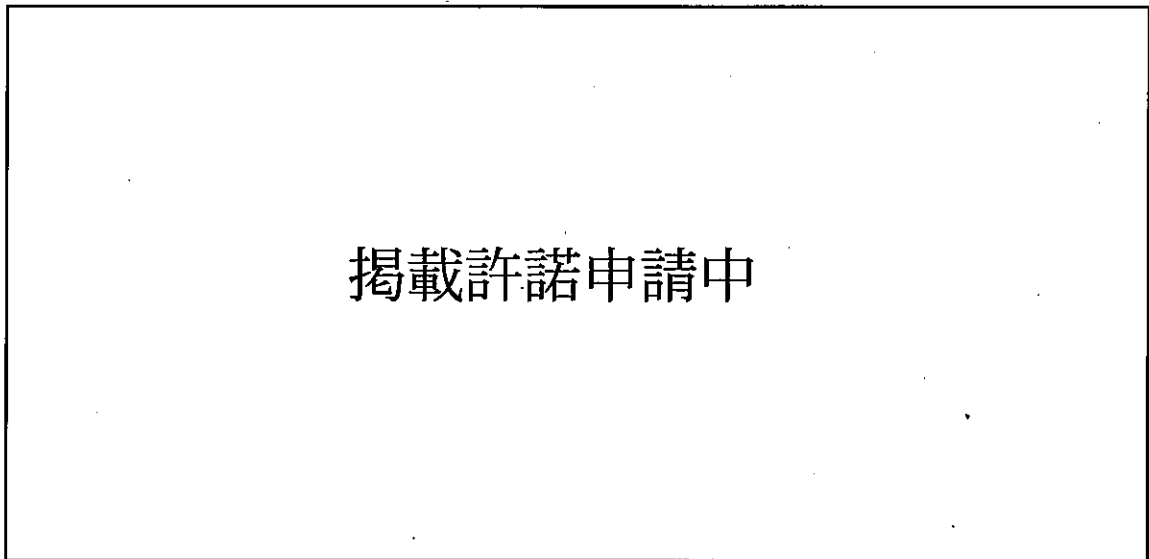
- 問3 Tさんは、下線部③について調べ、日本国憲法で衆議院の優越が認められていることを知りました。衆議院の優越が認められている理由を、「任期」、「解散」、「国民」という三つの語を用いて書きなさい。(5点)

問 4 下線部④について述べた文として正しいものを、次のア～エの中から一つ選び、その記号を書きなさい。(2点)

- ア 増税や減税を行ったり、公共投資を増減させたりする財政政策を行う。
- イ 人々の貯蓄を預金として集め、それを家計や企業に貸し出す。
- ウ 経済の安定化を図るために、公開市場操作などの金融政策を行う。
- エ 独占禁止法を運用し、公正な競争をうながす。

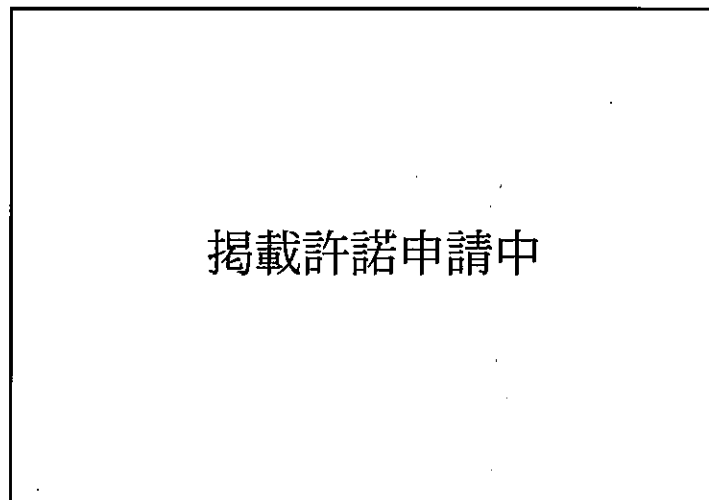
問 5 Tさんは、下線部⑤について調べ、グラフ1とグラフ2をつくりました。グラフ1は国の一般会計当初予算(歳出)の内訳の推移を示し、グラフ2は日本の年齢別人口の割合の推移を示しています。グラフ1の最も特徴的な内訳の変化を、グラフ2から読みとれることと関連づけて書きなさい。(5点)

グラフ1



(財務省ホームページから作成)

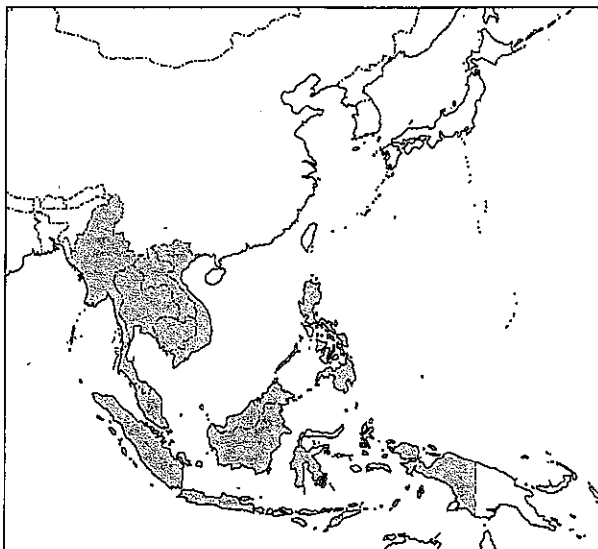
グラフ2




(総務省統計局資料から作成)

問 6 Tさんは、下線部⑥に関連して、世界の地域主義の動きについて調べたところ、次の地図を  
みつけ、下のようにまとめました。地図をみて、まとめの中の  にあてはまる語を書  
きなさい。(3点)

地図



まとめ

同じ課題をかかえている国どうしが特定の地域でまとまりを作り、協調や協力をしてい  
こうとする動きが世界各地で見られます。こうした動きの一例として、1967年に地域の  
安定と発展を求めて  が設立されました。現在では地図中の  で示した10  
か国が  に加盟し、経済、政治、安全保障などの分野で協力を進めています。

問 7 下線部⑦に関連して、世界の難民の保護と支援を行う国際連合の機関である「国連難民高等  
弁務官事務所」の略称を、次のア～エの中から一つ選び、その記号を書きなさい。(2点)

ア UNHCR      イ WHO      ウ UNICEF      エ PKO

- 6 Hさんは、2015年にユネスコの世界文化遺産に登録された「明治日本の産業革命遺産 製鉄・製鋼、造船、石炭産業」について調べ、次の資料をつくりました。資料をみて、問1～問5に答えなさい。(15点)

資料

「明治日本の産業革命遺産 製鉄・製鋼、造船、石炭産業」の調査

「明治日本の産業革命遺産 製鉄・製鋼、造船、石炭産業」は、幕末から明治期の日本における重工業分野の産業革命遺産群で、8県8エリアに点在する23資産で構成されています。

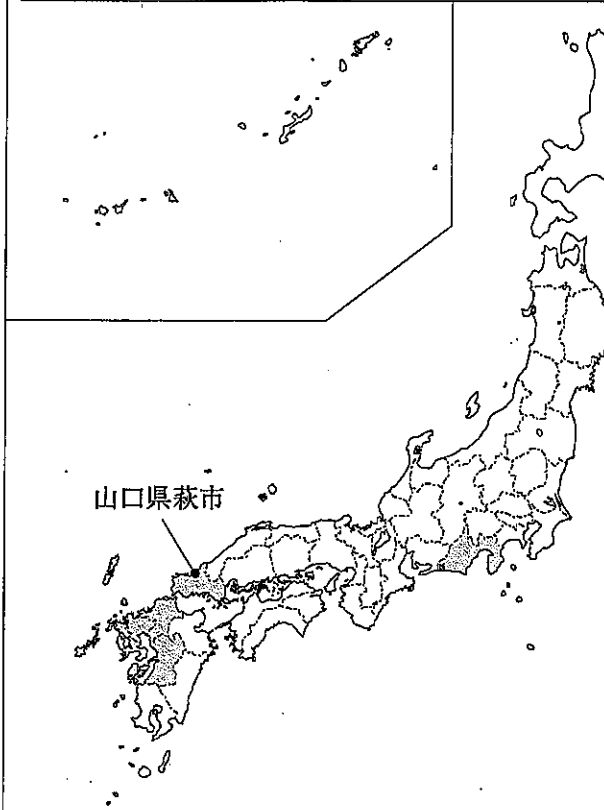


表1 構成資産の分布

県名	エリア	構成資産数	代表的な資産
山口	萩	5	① 松下村塾
鹿児島	鹿児島	3	旧集積館
静岡	韮山	1	② 韮山反射炉
岩手	釜石	1	橋野鉄鉱山
佐賀	佐賀	1	三重津海軍所跡
長崎	長崎	8	旧グラバー住宅
福岡・熊本	三池	2	三池炭鉱・三池港
福岡	八幡	2	官営八幡製鉄所

問1 Hさんは、表1中の構成資産が分布する8県のうちの6県を、資料中の地図に [ ] で示しました。表1中の8県のうち、地図に [ ] で示されていない二つの県名を書きなさい。(2点)

問2 Hさんは、地図中の山口県萩市にみられる特徴的な地形について調べ、次のようにまとめました。まとめの中の [ X ] にあてはまる語を書きなさい。(2点)

まとめ

川がつくる地形のうち、川が運んできた細かい砂や土が河口付近に積もってできる平らな地形を [ X ] といいます。 [ X ] は、水が地下にしみこみにくいため、おもに水田として利用されてきましたが、住宅地になっているところもあります。

萩市の市街地は、資料のように、阿武川河口に形成された [ X ] の上に広がっています。

資料

掲載許諾申請中

問 3 表 1 中の下線部①で学んだ伊藤博文について述べた文として正しいものを、次のア～エの中から一つ選び、その記号を書きなさい。(2点)

ア ヨーロッパに留学して、君主権の強いドイツ(プロイセン)をはじめ各地で憲法について学び、帰国後は自らが中心となって憲法の草案を作成した。

イ 薩摩藩出身であり、欧米からの帰国後は殖産興業に努め、明治六年の政変ののち、新たに内務省を設置して内務卿となり、近代化政策をおし進めた。

ウ 岩倉使節団とともにフランスに留学した。ルソーの思想を紹介し、「東洋のルソー」と呼ばれた。

エ 憲法の即時制定と国会の早期開設を主張したが政府から追われ、のちに立憲改進黨を結成して、その党首となった。

問 4 次の文章は、表 1 中の下線部②がつくられた頃の国内の様子をまとめたものです。まとめの中の **Y** と **Z** にあてはまる語の組み合わせとして正しいものを、下のア～エの中から一つ選び、その記号を書きなさい。(2点)

まとめ

1840年に始まったアヘン戦争で清が **Y** に敗北したことで、国内では軍事力の強化が課題となりました。薩摩藩や肥前藩では反射炉を建設し、幕府も葦山反射炉を完成させ、大砲などを製造しました。また、おもに西日本の諸藩では、財政を立て直すために、独自の改革を行いました。薩摩藩では黒砂糖を、肥前藩では陶磁器を **Z** にするなどして財政を立て直し経済力をたくわえました。これらの藩は、のちに雄藩と呼ばれ、政治的な発言力を持つようになりました。

- ア Y-イギリス Z-配給制      イ Y-イギリス Z-専売制  
ウ Y-フランス Z-配給制      エ Y-フランス Z-専売制

問 5 Hさんは、表 1 中の福岡県と佐賀県の第 23 回参議院議員選挙(平成 25 年 7 月実施)と第 24 回参議院議員選挙(平成 28 年 7 月実施)の選挙区選挙における、有権者数、議員定数を調べ、次の表 2 をつくりました。表 2 をみて、下の(1)と(2)の問いに答えなさい。

表 2

## 掲載許諾申請中

(総務省「参議院議員通常選挙結果調」などから作成)

- (1) 第 24 回の選挙における有権者数は、福岡県、佐賀県ともに、第 23 回の選挙よりも増加しています。これは、平成 27 年 6 月に公職選挙法等が改正されたことに関連しています。この改正で選挙権がどのように改められたかを書きなさい。(3点)
- (2) 選挙の課題の一つに「一票の格差」があります。「一票の格差」とはどのようなことか、「有権者数」と「価値」という二つの語を用いて説明しなさい。(4点)

(以上で問題は終わりです。)





社 会 解 答 用 紙 (2)

4

--

問 1 ※	→                      →                      →
問 2 ※	
問 3 ※	
問 4 ※	(名称) (内容)
問 5 ※	

5

--

問 1 ※	I		権 II		権
問 2 ※					
問 3 ※					
問 4 ※					
問 5 ※					
問 6 ※					
問 7 ※					

6

--

問 1 ※		県		県
問 2 ※				
問 3 ※				
問 4 ※				
問 5 ※	(1)			
	(2)			

1～3の計

得 点		※	
-----	--	---	--

受 検 番 号	第		番
---------	---	--	---