

受検番号	第	番
------	---	---

平成27年度学力検査問題

社 会 (11時45分～12時25分)  
(40分間)

注 意

1 解答用紙について

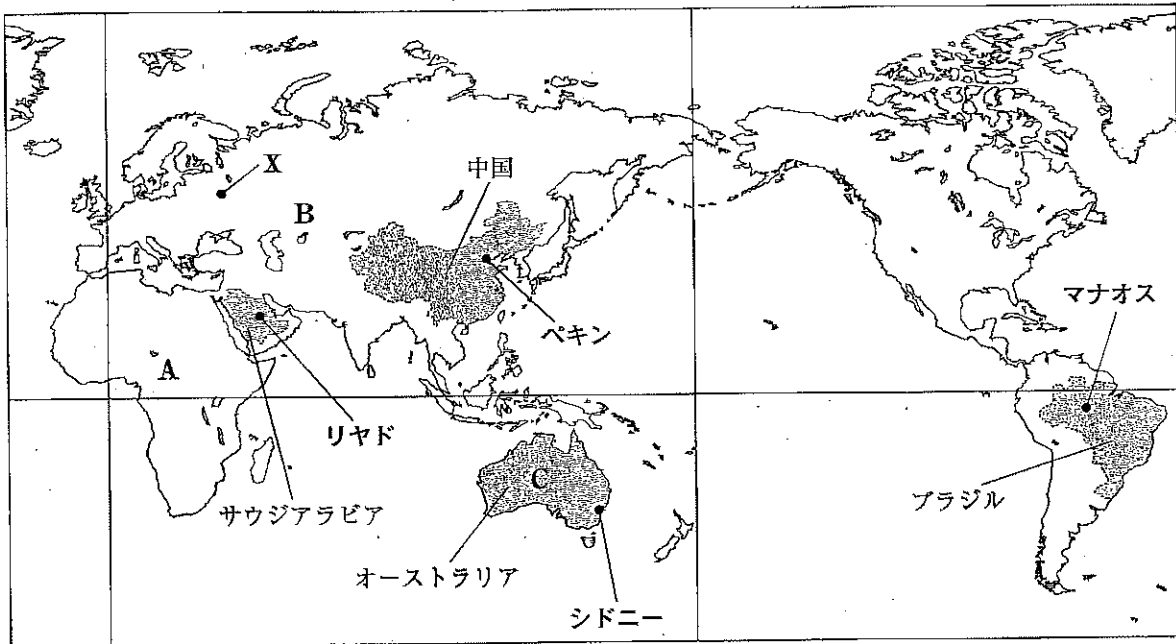
- (1) 解答用紙は1枚で、問題用紙にはさんであります。
- (2) 係の先生の指示に従って、所定の欄2か所に受検番号を書きなさい。
- (3) 答えはすべて解答用紙のきめられたところに、はっきりと書きなさい。
- (4) 解答用紙は切りはなしてはいけません。
- (5) 解答用紙の\*印は集計のためのもので、解答には関係ありません。

2 問題用紙について

- (1) 表紙の所定の欄に受検番号を書きなさい。
  - (2) 問題は全部で6問あり、表紙を除いて14ページです。
- 印刷のはっきりしないところは、手をあげて係の先生に聞きなさい。

- 1 Kさんは、サウジアラビア、中国、オーストラリア及びブラジルの4か国について調べました。次の地図をみて、問1～問5に答えなさい。(15点)

地図



問1 三大洋のうち、地図中に示したA, B, Cの三つの大陸が共通して面している海洋の名称を書きなさい。(3点)

問2 地図中に示した都市Xの位置を、緯度と経度を用いてあらわすとき、次の文の  と  にあてはまる語を書きなさい。(2点)

都市Xの位置は、およそ  緯56度、 経38度とあらわすことができる。

問3 Kさんは、サウジアラビアの人々のくらしと深く結びついている宗教について調べ、次の文章にまとめました。まとめの中の  と  にあてはまる語の組み合わせとして正しいものを、下のア～エの中から一つ選び、その記号を書きなさい。(2点)

まとめ

は、西アジアを中心として、北アフリカ、中央アジア、東南アジアにおもに広がっている。人々は、聖地メッカに向かって1日5回の礼拝を行うことや、 を食べないことなど、さまざまなきまりごとに従って生活している。

- ア I ヒンドゥー教 II 牛肉                      イ I イスラム教 II 牛肉  
ウ I イスラム教 II 豚肉                      エ I ヒンドゥー教 II 豚肉

問4 Kさんは、地図中に示した、リヤド、ペキン、シドニー、マナオスの4つの都市の気温と降水量について調べ、あとのア～エのグラフをつくりました。このうち、熱帯に属するマナオスの気温と降水量を示すものを、ア～エの中から一つ選び、その記号を書きなさい。また、選んだグラフから、熱帯の気温の特色について書きなさい。(5点)

## 掲載許諾申請中

(理科年表 平成 26 年から作成)

- 問 5 Kさんは、地図中に示した4か国の、人口、面積、一人あたりの国民総所得、日本との間での輸出入総額と主要輸出入品の総額にしめる割合を示した次の表をみつけました。表から読みとれる内容を述べた文として正しいものを、下のア～オの中からすべて選び、その記号を書きなさい。(3点)

表

## 掲載許諾申請中

(注) 有機化合物とは、炭素を含む化合物のことであり、日用品・工業製品・医薬品などの素材として用いられる。  
(世界国勢図会、日本国勢図会から作成)

- ア 4か国の一人あたりの国民総所得をみると、最も高いオーストラリアは、最も低い中国の10倍以上である。
- イ 4か国のすべてにおいて、日本への主要輸出品の第1位の品目は、燃料や原料である。
- ウ 日本からの主要輸入品の輸入総額にしめる割合をみると、4か国のすべてで、上位2位までの品目が輸入総額にしめる割合の50%を上回っている。
- エ 4か国のすべてにおいて、日本への輸出総額が日本からの輸入総額を上回っており、日本との間では、貿易黒字となっている。
- オ 4か国の人口密度を調べると、ブラジルが最も高く、サウジアラビアが最も低い。

2 Mさんは、夏休みに家族旅行をしたことなどについて、友人のSさん、Tさんと話をしました。次は、そのときの会話です。これを読み、地図1をみて、問1～問4に答えなさい。(16点)

地図1

<p>Mさん：夏休みに、祖父母の住む青森県に行ったよ。</p> <p>Sさん：私の両親は新潟県と静岡県の出身で、それぞれの祖父母の家に行ってきたよ。私たちの住む地域とは様子がずいぶん違うように感じたけど、中心となる<u>産業</u>が違うんだらうね。<sup>①</sup></p> <p>Tさん：私は岐阜県の祖父母の家に行ったよ。祖父は<u>林業</u>を営んでいるんだ。近くには有名な観光地があって、その<u>住居の屋根の形</u>には<u>特色</u>があったよ。また、埼玉県へ帰る途中、山梨県に寄ったとき、授業で学んだ<u>地形</u>があったよ。<sup>④</sup></p> <p>Mさん：自分たちの祖父母の住む地域について、もっと調べてみたいね。</p>	
---	--

問1 下線部①に関連して、次の表は、地図1中の青森県、新潟県、静岡県、岐阜県における農業産出額、漁業生産量、工業出荷額を示したものです(2011年)。表中のⅠ～Ⅲにあてはまる県の組み合わせとして正しいものを、下のア～エの中から一つ選び、その記号を書きなさい。(2点)

表


## 掲載許諾申請中

(データでみる県勢 2014年版から作成)

- |                           |                           |
|---------------------------|---------------------------|
| ア Ⅰ - 新潟県 Ⅱ - 青森県 Ⅲ - 静岡県 | イ Ⅰ - 静岡県 Ⅱ - 青森県 Ⅲ - 新潟県 |
| ウ Ⅰ - 青森県 Ⅱ - 静岡県 Ⅲ - 新潟県 | エ Ⅰ - 静岡県 Ⅱ - 新潟県 Ⅲ - 青森県 |

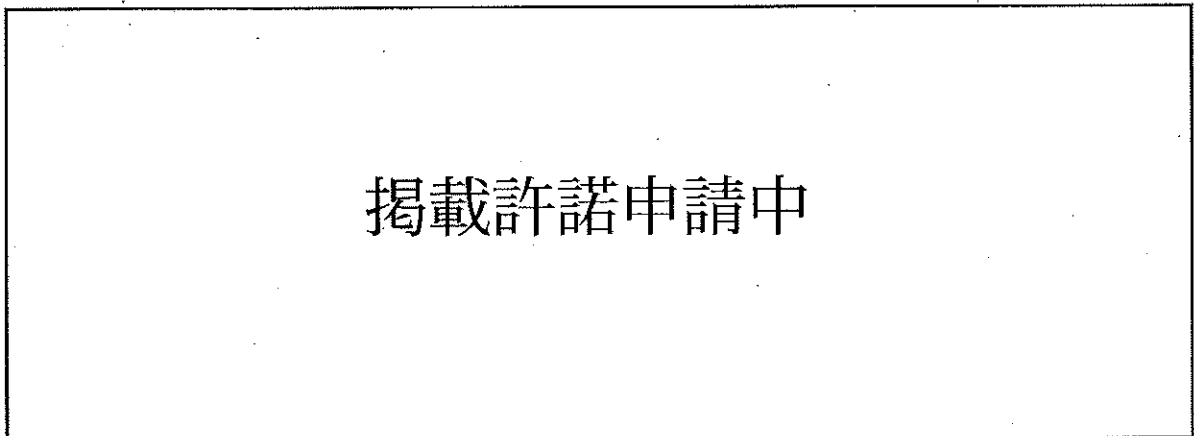
問 2 下線部②に関連して、Tさんは日本の林業について調べ、次のグラフ1とグラフ2をつくりました。  
グラフ1とグラフ2から読みとれる内容を述べた文として誤っているものを、下のア～エの中から  
一つ選び、その記号を書きなさい。(3点)

グラフ1 日本の木材輸入量、木材国内生産量及び木材自給率の推移



(注) 四捨五入をしているため、木材輸入量と木材国内生産量の合計が一致しない場合がある。

グラフ2 産地別木材輸入量の内訳



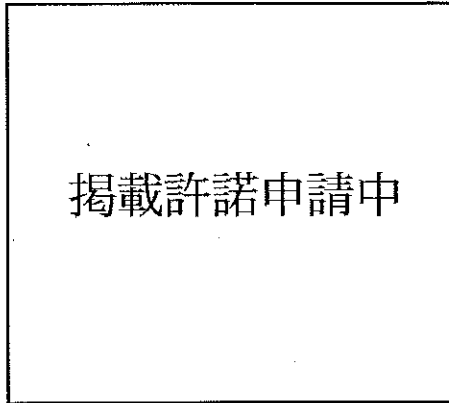
(注) 米材とはアメリカとカナダから、南洋材とはマレーシアやインドネシアなどから、北洋材とはロシアから、欧州材とはロシアを除くヨーロッパ各国から、それぞれ輸入された木材のことである。

(「平成25年度森林・林業白書」から作成)

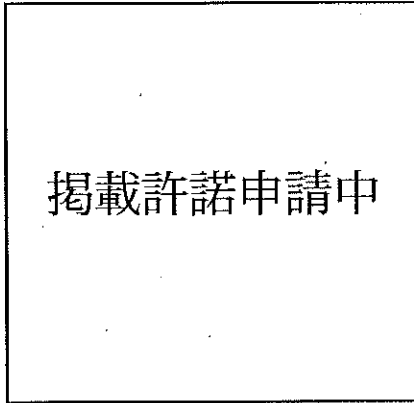
- ア 2012年の日本の木材自給率は、1985年より低いが、2000年より高い。
- イ 2012年の日本の木材輸入量と木材国内生産量の合計は、1995年の木材輸入量を下回る。
- ウ 2012年における欧州材の輸入量は、1995年の欧州材の輸入量の3倍を上回る。
- エ 2012年において、日本の木材国内生産量は、米材の輸入量を上回る。

問 3 下線部③について、次の資料は、地図 1 中の岐阜県にある白川村などでみられる伝統的な住居です。また、グラフ 3 は、白川村の気温と降水量について示したものです。この資料の住居の屋根の形にみられる特色を、白川村の気候に着目して説明しなさい。(5 点)

資料



グラフ 3



(気象庁ホームページから作成)

問 4 下線部④に関連して、地図 2 は、地図 1 中の山梨県にある南アルプス市の一部を示した 2 万 5 千分の 1 の地形図です。これをみて、次の(1)と(2)の問いに答えなさい。

(1) 地図 2 中の御<sup>み</sup>勤<sup>だ</sup>使<sup>と</sup>川<sup>い</sup>の A 地点から下流に広がる地形は、川が山間部から平野や盆地に出たところに土砂がたまってつくられたもので、水はけがよいという特徴があります。このような地形の名称を書きなさい。(3 点)

(2) 地図 2 から読みとれる内容を述べた文として下線部が正しいものを、次のア～オの中からすべて選び、その記号を書きなさい。(3 点)

ア B 地点から C 地点までの直線距離は、地図上で約 6 cm であり、実際の直線距離は約 1500 m である。


イ D 地点の小・中学校からみると、E 地点の小・中学校はおよそ北東の方向にある。

ウ F 地点の高さと H 地点の高さを比べると、F 地点の方が高い。

エ G 地点から H 地点までと、G 地点から I 地点までとは、等高線から考えると、G 地点から H 地点までの方が急な傾斜となっている。

オ J 地点には、老人ホームがある。

地図 2



(国土地理院 2万5千分の1地形図「小笠原」平成20年発行一部改変)

3 次のⅠ～Ⅴは、Sさんが、5つの異なる時代に定められたおもな法律などについてまとめたものです。これを見て、問1～問5に答えなさい。(16点)

Ⅰ	推古天皇のときに聖徳太子らが、大王(天皇)を中心とする政治制度を整えようとした。十七条の憲法が定められ、役人の心構えが示された。
Ⅱ	東大寺の大仏をつくらせた <b>A</b> 天皇は、人々に開墾をすすめる墾田永年私財法を出した。これにより土地の私有が認められた。
Ⅲ	執権の <b>B</b> は、武士の社会で行われていた慣習にもとづいて御成敗式目(貞永式目)を定めた。御成敗式目は、朝廷の法律とは別の独自のもので、長く武士の法律の手本とされた。
Ⅳ	戦国時代になると、各地に登場した戦国大名が、独自の分国法を定めて武士や領民の行動を取りしまり、領国を統一して支配する新しい政治を行った。
Ⅴ	幕府は、武家諸法度という法律を定め、大名が許可なく城を修理したり、大名どうしが無断で縁組をしたりすることを禁止した。

問1 Ⅰの時代について調べたところ、次のa、bの文と下の資料1、資料2をみつけました。Ⅰの時代に栄えた文化の特色について述べた文と、その時代の代表的な文化財の組み合わせとして正しいものを、表中のア～エの中から一つ選び、その記号を書きなさい。(2点)

- a 藤原氏から出たきさきたちの周りには、教養や才能のある女性が集まり、女性による文学作品が多く生まれた。
- b 仏像や経典が百濟から朝廷におくられ、仏教が伝わった。豪族たちの中には、それまでの古墳にかわって寺をつくることで権威を示そうとする者もあらわれた。

資料1	資料2	表															
<div style="border: 1px solid black; width: 150px; height: 150px; margin: 0 auto; display: flex; align-items: center; justify-content: center;">           掲載許諾申請中         </div>	<div style="border: 1px solid black; width: 150px; height: 150px; margin: 0 auto; display: flex; align-items: center; justify-content: center;">           掲載許諾申請中         </div>	<table border="1"> <thead> <tr> <th></th> <th>文化の特色</th> <th>代表的な文化財</th> </tr> </thead> <tbody> <tr> <td>ア</td> <td>a</td> <td>資料1</td> </tr> <tr> <td>イ</td> <td>a</td> <td>資料2</td> </tr> <tr> <td>ウ</td> <td>b</td> <td>資料1</td> </tr> <tr> <td>エ</td> <td>b</td> <td>資料2</td> </tr> </tbody> </table>		文化の特色	代表的な文化財	ア	a	資料1	イ	a	資料2	ウ	b	資料1	エ	b	資料2
	文化の特色	代表的な文化財															
ア	a	資料1															
イ	a	資料2															
ウ	b	資料1															
エ	b	資料2															
<small>みらくぼさつぞう</small> 広隆寺の弥勒菩薩像	<small>びょうどういんほうむうどう あみだによらいぞう</small> 平等院鳳凰堂の阿弥陀如来像																

問2 Ⅱ及びⅢのまとめの中にある **A** と **B** にあてはまる人物名をそれぞれ書きなさい。(各2点)



問 3 Ⅲの時代における社会や経済の様子を述べた文として正しいものを、次のア～エの中から一つ選び、その記号を書きなさい。(2点)

- ア 百姓には、本百姓と水のみ百姓との区別があり、有力な本百姓は、<sup>しやうや</sup>庄屋(名主)や組頭、百姓代などの村役人になり、村の自治をになうとともに年貢を徴収して領主におさめた。
- イ <sup>くげ</sup>公家や寺社などの荘園領主や有力農民がそれぞれ持っていた土地の複雑な権利を否定し、検地帳に登録された農民だけに、土地の所有権を認めた。
- ウ 人々は、口分田の面積に応じて租を負担し、このほかに一般の成人男子には、布や特産物を都まで運んでおさめる調、庸などの税や、兵役の義務が課されるようになった。
- エ 地頭と領主の間に争いがたびたび起こったため、幕府の裁きにより、土地の半分が地頭にあたえられたり、地頭が一定の額の年貢をうけ負い、領主におさめるようになったりした。

問 4 次のX～Zについて、Ⅳの戦国時代に起こった世界のできごとを述べた文として、その正誤の組み合わせが正しいものを、下のア～エの中から一つ選び、その記号を書きなさい。(3点)

- X 大西洋を横断してカリブ海の島に達したコロンブスは、そこをインド(アジア)の一部だと信じた。
- Y モンゴル高原で遊牧生活をしていたモンゴル民族から出たチンギス・ハンは、部族を統一して国を建設した。
- Z 自由貿易や奴隷制をめぐる対立から南北戦争が始まり、リンカン大統領の指導のもとに、合衆国の統一と奴隷の解放を図る北部が、この内戦に勝利した。

- ア X 正 Y 誤 Z 誤                      イ X 正 Y 誤 Z 正
- ウ X 誤 Y 正 Z 誤                      エ X 誤 Y 正 Z 正

問 5 次の資料3は、Ⅴの時代において、幕府が大軍を送って鎮圧した一揆軍の旗です。資料3が使用された一揆の名称を書きなさい。また、この一揆などにより、幕府が強化したキリスト教禁止に関する政策の内容について、資料4及び資料5を用いて説明しなさい。(5点)

資料3

掲載許諾申請中
---------

資料4

掲載許諾申請中
---------

資料5

掲載許諾申請中
---------

4 次の年表をみて、問1～問5に答えなさい。(15点)

西暦(年)	できごと
1867	・大政奉還が行われる
1873	・明治六年の政変が起こる……………
1881	・国会開設の勅諭がだされる……………
1890	・第一回帝国議会が開かれる……………
1912	・第一次護憲運動が起こる……………
1945	・ポツダム宣言を受諾する……………
1956	・日ソ共同宣言が調印される……………
1973	・石油危機が起こる……………

問1 次の文章は、年表中Aの時期のある期間の政治についてまとめたものです。まとめの中の

**X** にあてはまる人物名を書き、文章を完成させなさい。(3点)

まとめ

明治六年の政変ののち、旧薩摩藩出身であり、岩倉使節団の副使でもあった **X** は、政府の中心となり、新たに内務省を設置して内務卿となり、近代化政策をおし進めた。これを専制政治と批判する板垣退助らは、国会の開設を求める運動を進めた。

一方、明治維新の改革に不満を持つ士族たちも、**X** の政治への批判を強め、各地で武力蜂起したが、西南戦争が政府軍によって鎮圧されると、政府への批判は言論によるものが中心となった。

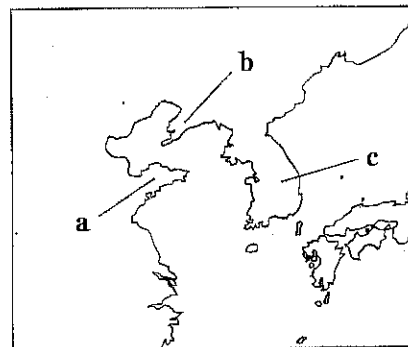
問2 次の文章は、年表中Bの時期のできごとについてまとめたものです。まとめの中の **Y**

にあてはまる国名を書きなさい。また、まとめの中の **Z** にあてはまる語と **Z** の地図中の位置の組み合わせとして正しいものを、下のア～カの中から一つ選び、その記号を書きなさい。(2点)

まとめ

満州への進出をねらう **Y** は、下関条約の直後に、日本が獲得した **Z** を清に返還するよう、ドイツ、フランスとともに勧告し、日本はこれを受け入れた。その後、**Y** の勢力拡大をみた日本とイギリスは、同盟を結んだ。

地図

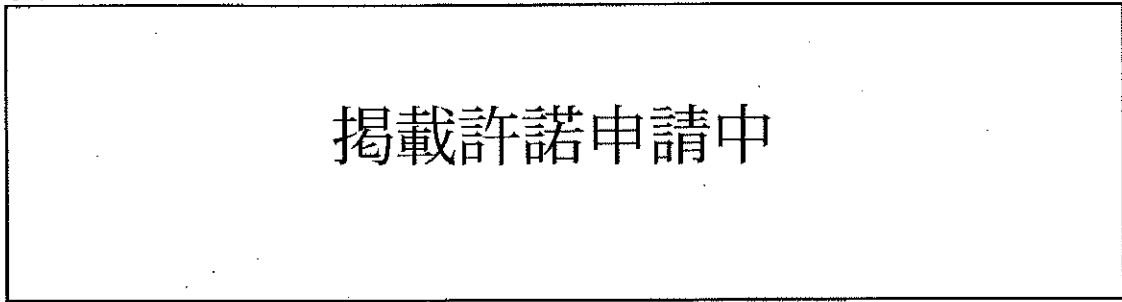


- ア Z - 山東半島 位置 - a      イ Z - 山東半島 位置 - b      ウ Z - 山東半島 位置 - c  
 エ Z - 遼東半島 位置 - a      オ Z - 遼東半島 位置 - b      カ Z - 遼東半島 位置 - c

問 3 次のグラフは、1914年と1919年の産業別生産額の内訳を示したものです。また、下の資料は、この頃の日本経済の様子をまとめたものです。グラフ中の1914年と1919年を比較すると、工業生産額と農業生産額は大きく増えましたが、工業生産額と農業生産額の関係はどのように変化したかを、資料に示したこの頃の日本経済の状況をあらわす名称を用いて、書きなさい。

(5点)

グラフ



(『日本資本主義発達史年表』から作成)

資料

日本では、戦争に必要とされた船舶や鉄鋼などを生産し、また、ドイツからの輸入がとだえた薬品や化学肥料の国産化が進んだ。さらに、アメリカへの生糸の輸出や、ヨーロッパからの輸入がとだえたアジアにむけての日本製品の輸出が、拡大した。

問 4 次のア～エは、年表中Cの時期のできごとについて述べた文です。年代の古い順に並べかえ、その順に記号で書きなさい。(3点)

- ア 軍事政権の樹立によって政治改革を実現しようと、陸軍の青年将校が二・二六事件を起こした。
- イ 「挙国一致」の体制をつくる運動が始められ、大政翼賛会が新たに結成された。
- ウ 加藤高明内閣が成立し、政党の総裁が内閣を組織する「憲政の常道」とよばれる慣例が始まった。
- エ 本格的な政党内閣である原敬<sup>たかし</sup>内閣が成立し、原は選挙法を改正し有権者数を増加させた。

問 5 年表中Dの時期の日本における政治や社会の様子を述べた文として正しいものを、次のア～エの中から一つ選び、その記号を書きなさい。(2点)

- ア 吉田茂内閣が、アメリカなど48か国とサンフランシスコ平和条約を結んだ。
- イ 地主が持つ小作地を政府が買い上げ、小作人に安く売りわたす農地改革が行われた。
- ウ 大気汚染や水質汚濁などの公害問題に対応するため、政府は公害対策基本法を制定した。
- エ 冷戦が終結し、保守勢力と革新勢力との対立が弱まる中で、政治では、55年体制が終わった。

5 Kさんのクラスでは、公民的分野のまとめとして、自分の興味がある分野からテーマを選び、発表することになりました。それぞれの発表の分野とテーマをみて、問1～問6に答えなさい。(24点)

	分野	テーマ
Kさん	① <u>裁判の種類と人権</u>	日本の裁判にはどのような種類があるのか。
Lさん	<u>選挙のしくみと課題</u>	② <u>選挙制度</u> にはどのような特徴があるのか。
Mさん	③ <u>社会保障のしくみ</u>	日本の社会保障はどのように行われるのか。
Nさん	④ <u>価格の働き</u>	価格はどのように決定されるのか。
Oさん	⑤ <u>住民参加の拡大</u>	住民運動はどのように広がってきているのか。
Pさん	<u>働きやすい職場づくり</u>	⑥ <u>日本の労働環境</u> はどのように変化したのか。

問1 下線部①に関連して、日本の裁判制度について述べた文として正しいものを、次のア～オの中からすべて選び、その記号を書きなさい。(3点)

- ア 裁判官の身分は保障されており、在任中は、国会議員による弾劾裁判での罷免の場合でしかやめさせることができない。
- イ 裁判所には、最高裁判所と下級裁判所とがあり、下級裁判所には、高等裁判所、地方裁判所、家庭裁判所、簡易裁判所の4種類がある。
- ウ 第一審の裁判所の判決に納得できない場合、第二審の裁判所に控訴し、さらに不服があれば上告することができる。
- エ 裁判には、刑事裁判と民事裁判とがあり、民事裁判では、検察官が被疑者を被告人として裁判所に訴える。
- オ 裁判員制度では、選挙で選ばれた国民が、裁判員として刑事裁判に参加し、裁判員どうして評議をし、裁判員が判決を言わたす。

問2 下線部②に関連して、選挙制度のうち、小選挙区制のしくみについて説明しなさい。また、現在、国会議員を選ぶ選挙において、小選挙区比例代表並立制がとられているのは、衆議院と参議院のどちらの議員を選ぶ選挙か、議院名を書きなさい。(5点)

問3 下線部③に関連して、次の文章と表は、日本の社会保障制度と、社会保障制度の四つの基本的な柱についてまとめたものです。文章と表の I と II にあてはまる語をそれぞれ書きなさい。(4点)

日本の社会保障制度は、憲法の条文の規定にもとづいて整備されてきた。日本国憲法第25条1項では、「すべて国民は、健康で文化的な最低限度の生活を営む権利を有する」と、生存権を定め、2項では「国は、すべての生活部面について、I、社会保障及びIIの向上及び増進に努めなければならない」とうたっている。

表

種類	仕事の内容
社会保険	医療保険 介護保険 年金保険 雇用保険など
公的扶助	生活保護(生活扶助, 住宅扶助, 教育扶助, 医療扶助など)
<span style="border: 1px solid black; padding: 2px;">I</span>	老人福祉 障がい者福祉 児童福祉など
<span style="border: 1px solid black; padding: 2px;">II</span>	感染症対策 上下水道整備 廃棄物処理 公害対策など

問 4 下線部④に関連して、Nさんは、価格の変化について、次のようにまとめました。まとめの中の **A** ～ **D** にあてはまる語の組み合わせとして正しいものを、下のア～エの中から一つ選び、その記号を書きなさい。(3点)

りんごが豊作となり、りんごの **A** が増え、消費者のりんごに対する **B** を上回ると、りんごの価格は **C** すると考えられる。また、天候が不順でりんごが不作となり、りんごの **A** が減り、消費者のりんごに対する **B** を下回ると、りんごの価格が **D** すると考えられる。なお、農作物は、豊作でも不作でも、消費者の食べる量は大きくかわらないとされている。

- ア A-需要量 B-供給量 C-上昇 D-下落  
 イ A-供給量 B-需要量 C-上昇 D-下落  
 ウ A-供給量 B-需要量 C-下落 D-上昇  
 エ A-需要量 B-供給量 C-下落 D-上昇

問 5 下線部⑤に関連して、Oさんは、次のようにまとめました。まとめの中の **X** にあてはまる語を書きなさい。(3点)

人々が自発的に集まって、利益目的ではなく、公共の利益を達成するためにつくった団体を **X** と呼ぶ。これらの団体による社会貢献活動を支援するため、1998年に特定非営利活動促進法(**X**法)が制定された。

問 6 下線部⑥に関連して、Pさんは、次の雇用形態別の労働者に関するグラフ1とグラフ2をつくりました。グラフ1とグラフ2のそれぞれから読みとれる非正規労働者の特色について、正規労働者と比較して簡潔に書きなさい。(6点)

グラフ1 2001年と2013年における雇用形態別の労働者の割合の変化

グラフ2 2013年における雇用形態別の労働者の年齢別賃金

掲載許諾申請中	掲載許諾申請中
---------	---------

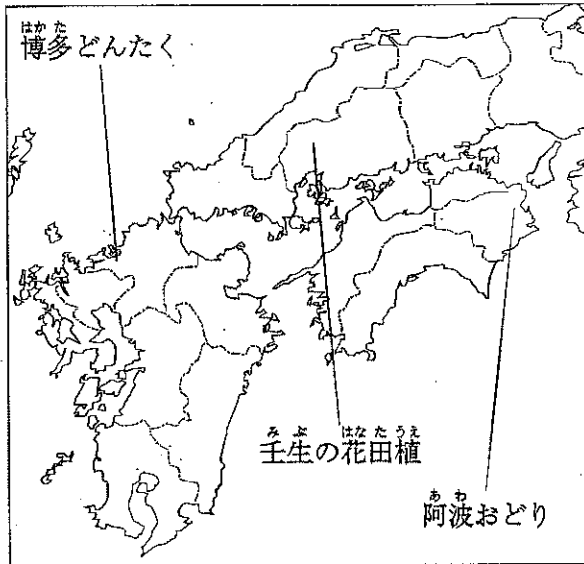
(「労働力調査」から作成)

(注) 金額は、1時間あたりの賃金に換算したものである。

(「平成25年賃金構造基本統計調査」から作成)

6 Hさんは、日本の祭りについて調べ、次の地図と資料にまとめました。地図と資料をみて、問1～問4に答えなさい。(14点)

地図





資料 祭りの起源

博多 どんたく	「筑前国続風土記」には、①平安時代に始まったと記されています。
壬生の 花田植	②室町時代に描かれた「大山寺縁起絵巻」には、田植の情景や、田楽法師と思われる絵が見られます。
阿波 おどり	16世紀末、蜂須賀氏による徳島城落成の際、祝賀行事として人々が踊ったのが起源とされています。

問1 Hさんは、地図中の博多どんたくが開かれる福岡市の将来推計人口などを示したグラフ1とグラフ2を見つけました。グラフ1とグラフ2から、読みとれる内容を述べた文として正しいものを、あとのア～エの中から一つ選び、その記号を書きなさい。(3点)

グラフ1 福岡市の将来推計人口 (2013年)

グラフ2 年齢別将来推計人口の割合(2013年)



(注) 0歳～14歳を年少人口、15歳～64歳を生産年齢人口、65歳以上を老年人口と区分する。

(国立社会保障・人口問題研究所ホームページから作成)

- ア 福岡市の人口は、2010年以降の5年ごとの推計では、2030年まで継続して増え続ける。
- イ 福岡市と全国の年齢別将来推計人口における老年人口割合について、2010年から2030年までを5年ごとに比較すると、すべての年で福岡市が全国を上回っている。
- ウ 福岡市における年齢別将来推計人口の割合によれば、2030年の年少人口割合は4人に1人を上回る。
- エ 福岡市における将来推計人口と年齢別将来推計人口の割合によれば、2030年の老年人口は40万人を上回る。

問2 下線部①の平安時代の末期、白河天皇は位をゆずって上皇となったのち、摂政や関白の力をおさえて政治を行いました。この政治を何というか、その名称を書きなさい。(3点)

問3 Hさんは、下線部②の室町時代の産業の発達について調べ、次のようにまとめました。文中の  にあてはまる語を書きなさい。(3点)

商業では、土倉や酒屋、商人や手工業者などが、同業者ごとに  と呼ばれる団体をつくり、武士や貴族、寺社にお金などをおさめてその保護を受け、営業を独占する権利を認められた。

問4 Hさんは、地図中の阿波おどりが開かれる徳島県と、埼玉県の平成26年度当初予算の歳入について調べ、グラフ3をつくりました。グラフ3をみて、埼玉県と比較した徳島県の歳入の内訳の特色について、地方税と地方交付税交付金に着目し、地方税と地方交付税交付金とどのようなものかにふれながら説明しなさい。(5点)

グラフ3 徳島県と埼玉県の平成26年度一般会計当初予算(歳入)の内訳

掲載許諾申請中

(徳島県ホームページ、埼玉県ホームページから作成)

(以上で問題は終わりです。)





